

Im Zahlenbereich bis max. 1000.

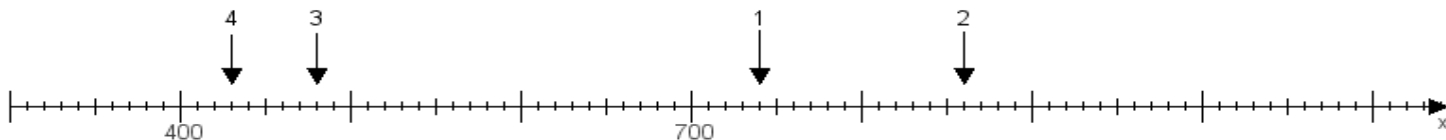
Name:

Klasse:

Datum:

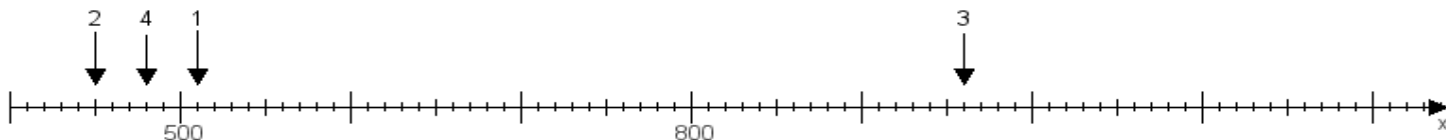
Aufgabe 1:

Ermittle die Werte von den Punkten 1 bis 4.



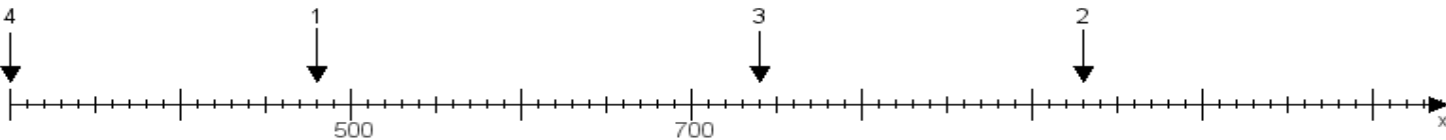
Aufgabe 2:

Ermittle die Werte von den Punkten 1 bis 4.



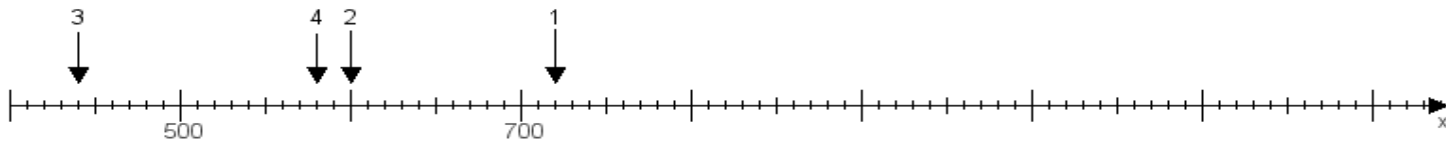
Aufgabe 3:

Ermittle die Werte von den Punkten 1 bis 4.



Aufgabe 4:

Ermittle die Werte von den Punkten 1 bis 4.



www.das-bastelteam.de -> Zahlenstrahl mit 4 Punkten. Blatt Nr.:449
Lösungen:

Aufgabe 1: Punkt 1 = 740, Punkt 2 = 860, Punkt 3 = 480, Punkt 4 = 430,

Aufgabe 2: Punkt 1 = 510, Punkt 2 = 450, Punkt 3 = 960, Punkt 4 = 480,

Aufgabe 3: Punkt 1 = 480, Punkt 2 = 930, Punkt 3 = 740, Punkt 4 = 300,

Aufgabe 4: Punkt 1 = 720, Punkt 2 = 600, Punkt 3 = 440, Punkt 4 = 580,