

Im Zahlenbereich bis max. 1000.

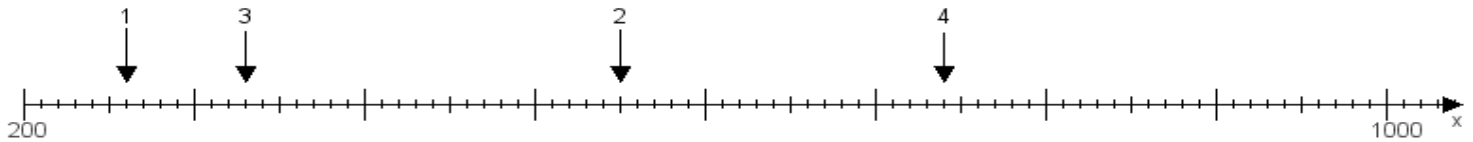
Name:

Klasse:

Datum:

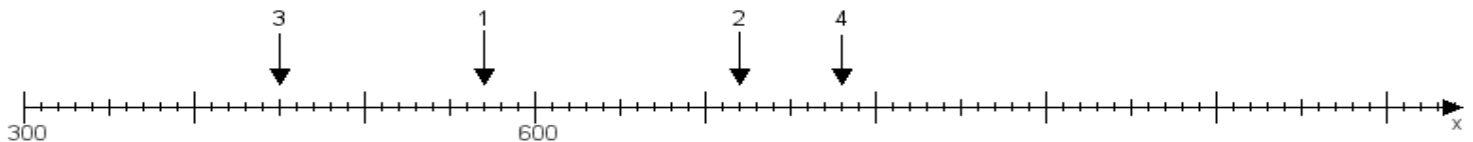
Aufgabe 1:

Ermittle die Werte von den Punkten 1 bis 4.



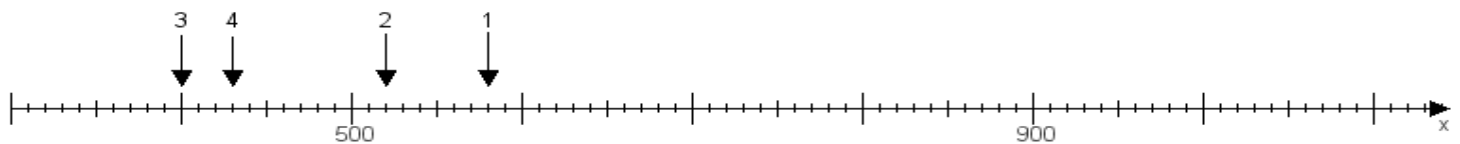
Aufgabe 2:

Ermittle die Werte von den Punkten 1 bis 4.



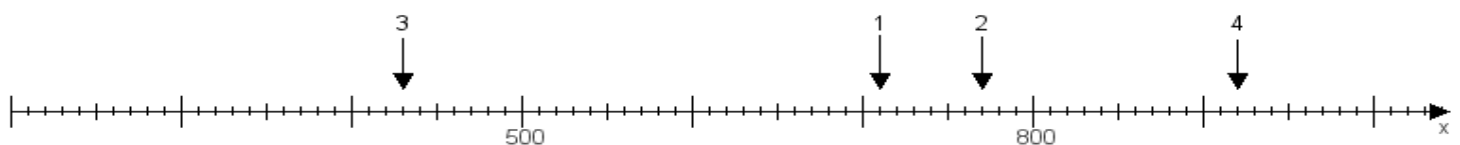
Aufgabe 3:

Ermittle die Werte von den Punkten 1 bis 4.



Aufgabe 4:

Ermittle die Werte von den Punkten 1 bis 4.



www.das-bastelteam.de -> Zahlenstrahl mit 4 Punkten. Blatt Nr.:448
Lösungen:

Aufgabe 1: Punkt 1 = 260, Punkt 2 = 550, Punkt 3 = 330, Punkt 4 = 740,

Aufgabe 2: Punkt 1 = 570, Punkt 2 = 720, Punkt 3 = 450, Punkt 4 = 780,

Aufgabe 3: Punkt 1 = 580, Punkt 2 = 520, Punkt 3 = 400, Punkt 4 = 430,

Aufgabe 4: Punkt 1 = 710, Punkt 2 = 770, Punkt 3 = 430, Punkt 4 = 920,