

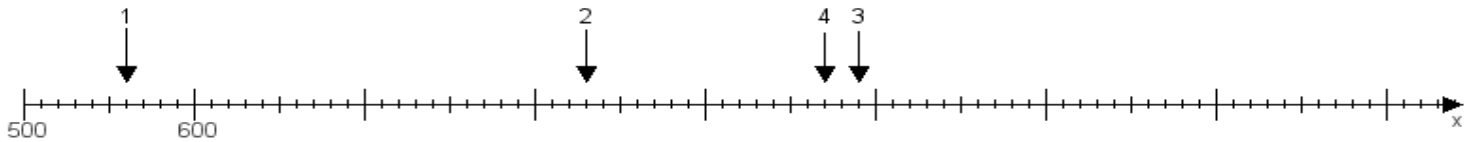
Name:

Klasse:

Datum:

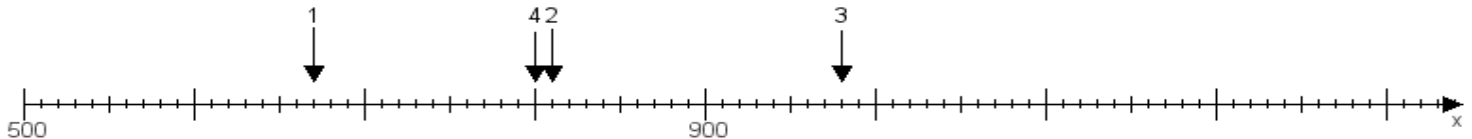
**Aufgabe 1:**

Ermittle die Werte von den Punkten 1 bis 4.



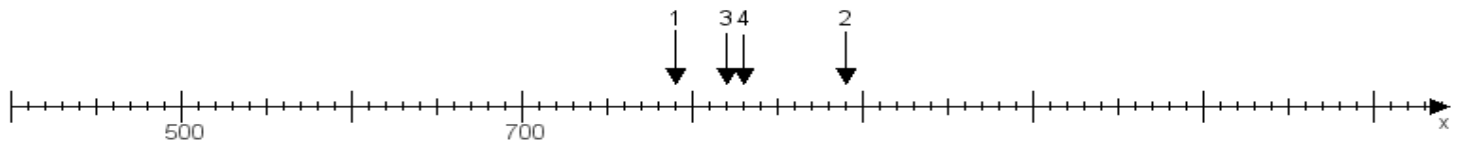
**Aufgabe 2:**

Ermittle die Werte von den Punkten 1 bis 4.



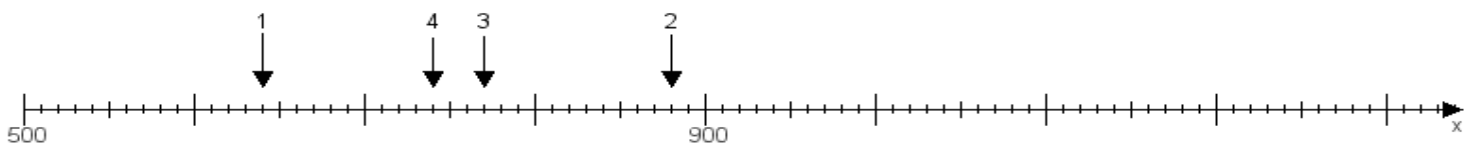
**Aufgabe 3:**

Ermittle die Werte von den Punkten 1 bis 4.



**Aufgabe 4:**

Ermittle die Werte von den Punkten 1 bis 4.



[www.das-bastelteam.de](http://www.das-bastelteam.de) -> Zahlenstrahl mit 4 Punkten. Blatt Nr.:445  
Lösungen:

Aufgabe 1: Punkt 1 = 560, Punkt 2 = 830, Punkt 3 = 990, Punkt 4 = 970,

Aufgabe 2: Punkt 1 = 670, Punkt 2 = 810, Punkt 3 = 980, Punkt 4 = 800,

Aufgabe 3: Punkt 1 = 790, Punkt 2 = 890, Punkt 3 = 820, Punkt 4 = 830,

Aufgabe 4: Punkt 1 = 640, Punkt 2 = 880, Punkt 3 = 770, Punkt 4 = 740,