

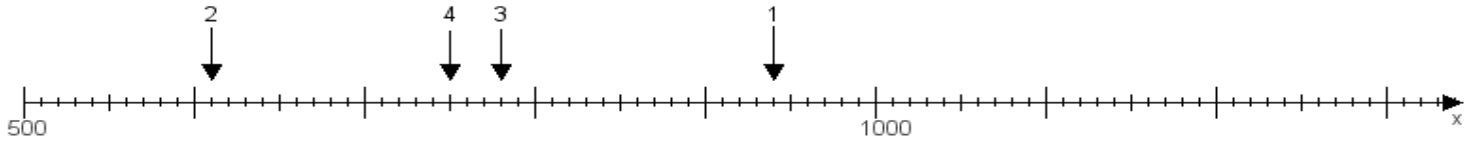
Name:

Klasse:

Datum:

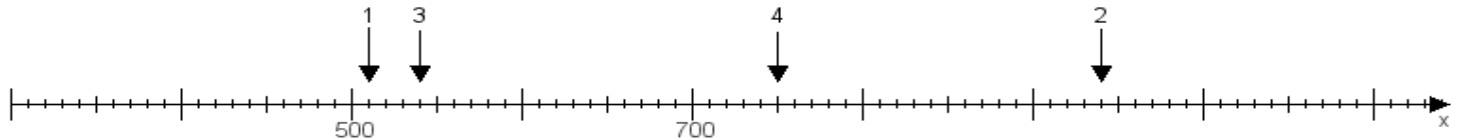
Aufgabe 1:

Ermittle die Werte von den Punkten 1 bis 4.



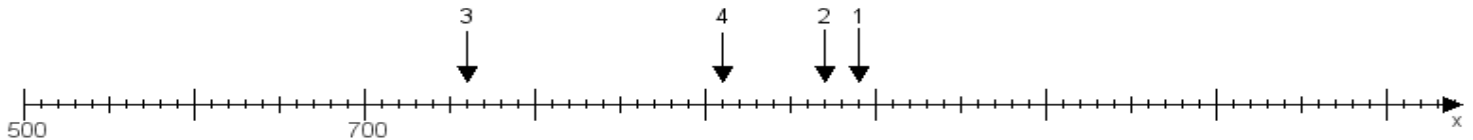
Aufgabe 2:

Ermittle die Werte von den Punkten 1 bis 4.



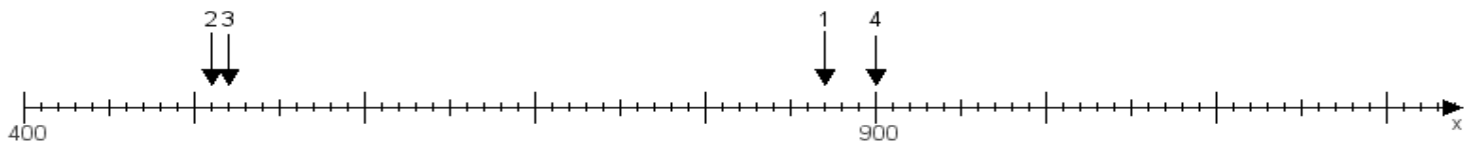
Aufgabe 3:

Ermittle die Werte von den Punkten 1 bis 4.



Aufgabe 4:

Ermittle die Werte von den Punkten 1 bis 4.



www.das-bastelteam.de -> Zahlenstrahl mit 4 Punkten. Blatt Nr.:443
Lösungen:

Aufgabe 1: Punkt 1 = 940, Punkt 2 = 610, Punkt 3 = 780, Punkt 4 = 750,

Aufgabe 2: Punkt 1 = 510, Punkt 2 = 940, Punkt 3 = 540, Punkt 4 = 750,

Aufgabe 3: Punkt 1 = 990, Punkt 2 = 970, Punkt 3 = 760, Punkt 4 = 910,

Aufgabe 4: Punkt 1 = 870, Punkt 2 = 510, Punkt 3 = 520, Punkt 4 = 900,