

Im Zahlenbereich bis max. 1000.

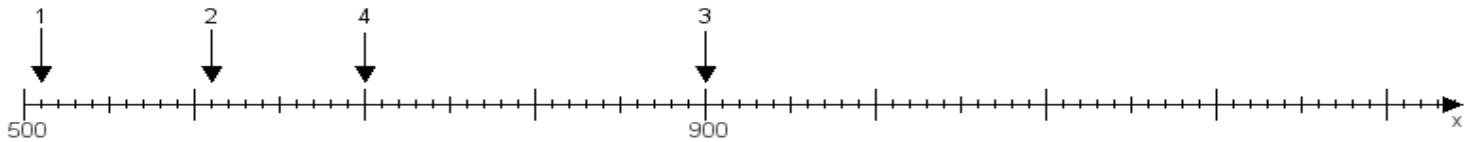
Name:

Klasse:

Datum:

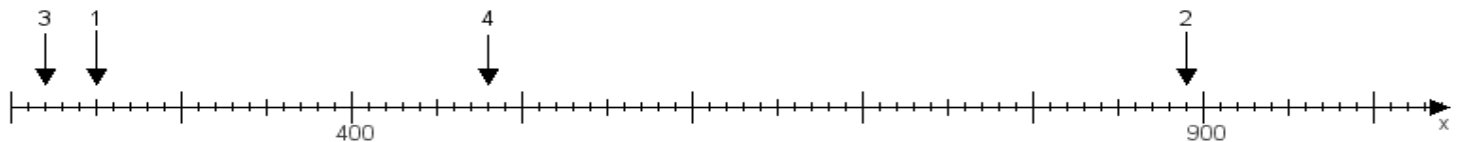
Aufgabe 1:

Ermittle die Werte von den Punkten 1 bis 4.



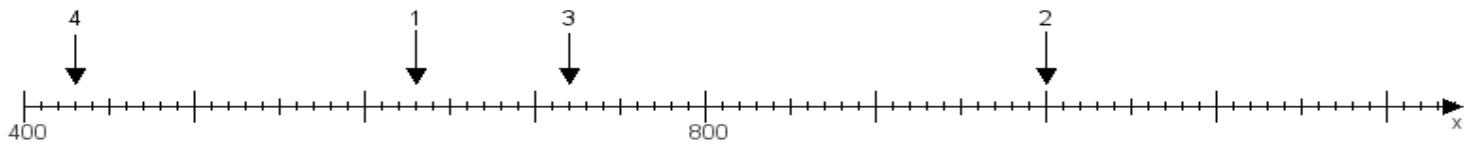
Aufgabe 2:

Ermittle die Werte von den Punkten 1 bis 4.



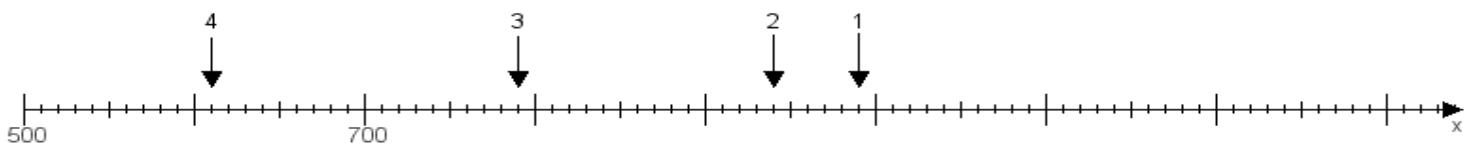
Aufgabe 3:

Ermittle die Werte von den Punkten 1 bis 4.



Aufgabe 4:

Ermittle die Werte von den Punkten 1 bis 4.



www.das-bastelteam.de -> Zahlenstrahl mit 4 Punkten. Blatt Nr.:43
Lösungen:

Aufgabe 1: Punkt 1 = 510, Punkt 2 = 610, Punkt 3 = 900, Punkt 4 = 700,

Aufgabe 2: Punkt 1 = 250, Punkt 2 = 890, Punkt 3 = 220, Punkt 4 = 480,

Aufgabe 3: Punkt 1 = 630, Punkt 2 = 1000, Punkt 3 = 720, Punkt 4 = 430,

Aufgabe 4: Punkt 1 = 990, Punkt 2 = 940, Punkt 3 = 790, Punkt 4 = 610,