

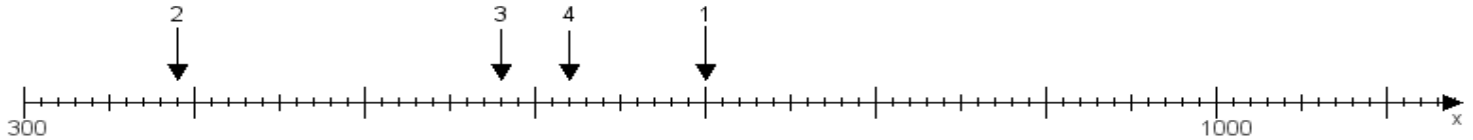
Name:

Klasse:

Datum:

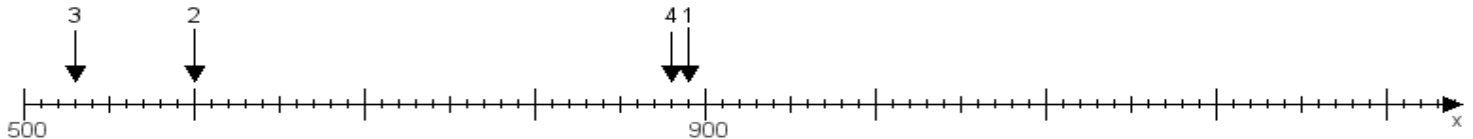
Aufgabe 1:

Ermittle die Werte von den Punkten 1 bis 4.



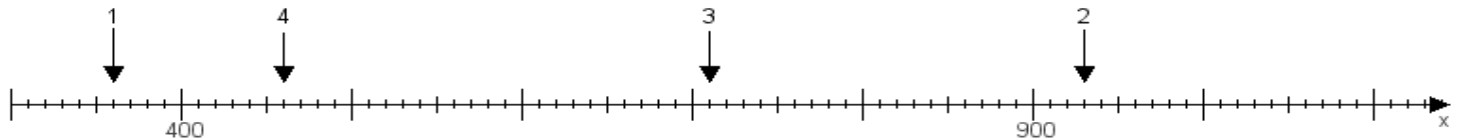
Aufgabe 2:

Ermittle die Werte von den Punkten 1 bis 4.



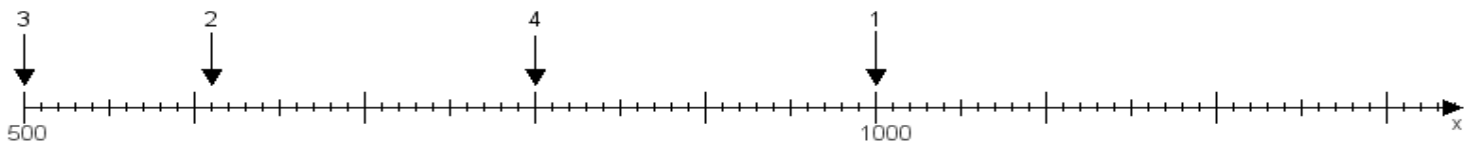
Aufgabe 3:

Ermittle die Werte von den Punkten 1 bis 4.



Aufgabe 4:

Ermittle die Werte von den Punkten 1 bis 4.



www.das-bastelteam.de -> Zahlenstrahl mit 4 Punkten. Blatt Nr.:439
Lösungen:

Aufgabe 1: Punkt 1 = 700, Punkt 2 = 390, Punkt 3 = 580, Punkt 4 = 620,

Aufgabe 2: Punkt 1 = 890, Punkt 2 = 600, Punkt 3 = 530, Punkt 4 = 880,

Aufgabe 3: Punkt 1 = 360, Punkt 2 = 930, Punkt 3 = 710, Punkt 4 = 460,

Aufgabe 4: Punkt 1 = 1000, Punkt 2 = 610, Punkt 3 = 500, Punkt 4 = 800,