

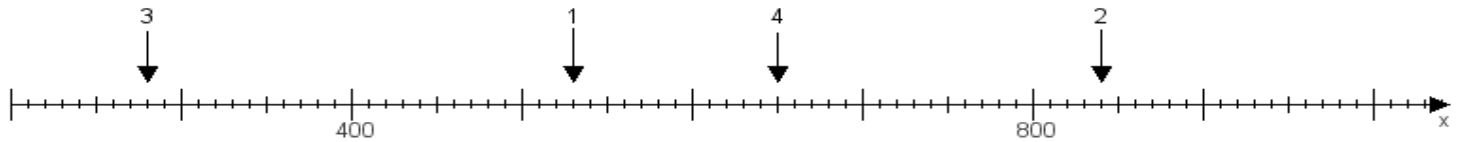
Name:

Klasse:

Datum:

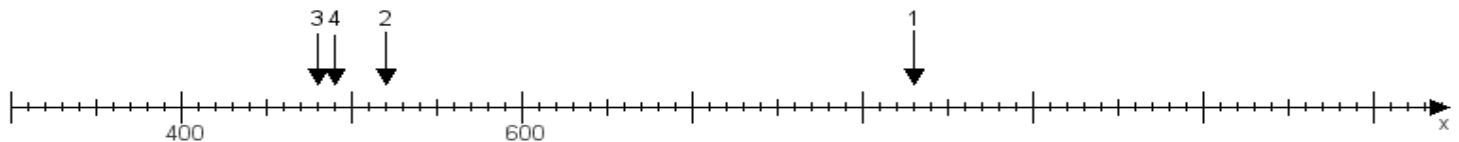
Aufgabe 1:

Ermittle die Werte von den Punkten 1 bis 4.



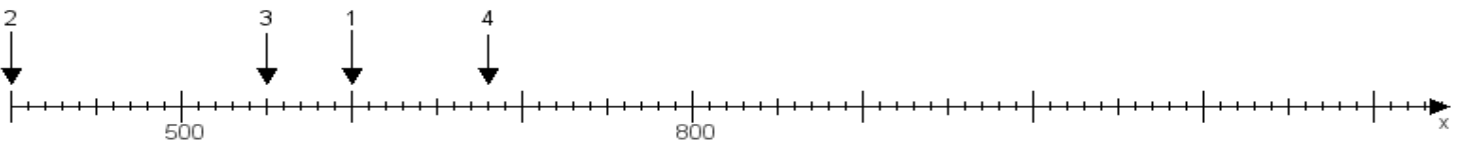
Aufgabe 2:

Ermittle die Werte von den Punkten 1 bis 4.



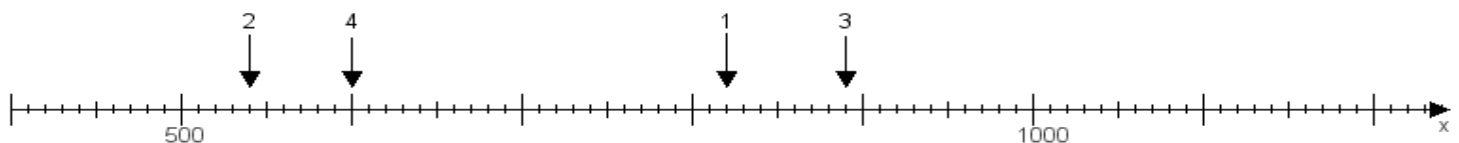
Aufgabe 3:

Ermittle die Werte von den Punkten 1 bis 4.



Aufgabe 4:

Ermittle die Werte von den Punkten 1 bis 4.



www.das-bastelteam.de -> Zahlenstrahl mit 4 Punkten. Blatt Nr.:438
Lösungen:

Aufgabe 1: Punkt 1 = 530, Punkt 2 = 840, Punkt 3 = 280, Punkt 4 = 650,

Aufgabe 2: Punkt 1 = 830, Punkt 2 = 520, Punkt 3 = 480, Punkt 4 = 490,

Aufgabe 3: Punkt 1 = 600, Punkt 2 = 400, Punkt 3 = 550, Punkt 4 = 680,

Aufgabe 4: Punkt 1 = 820, Punkt 2 = 540, Punkt 3 = 890, Punkt 4 = 600,