

Im Zahlenbereich bis max. 1000.

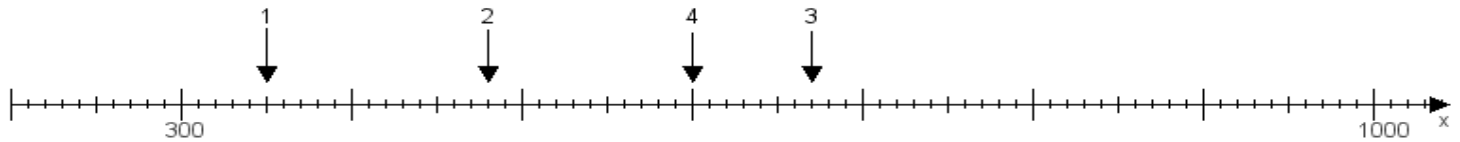
Name:

Klasse:

Datum:

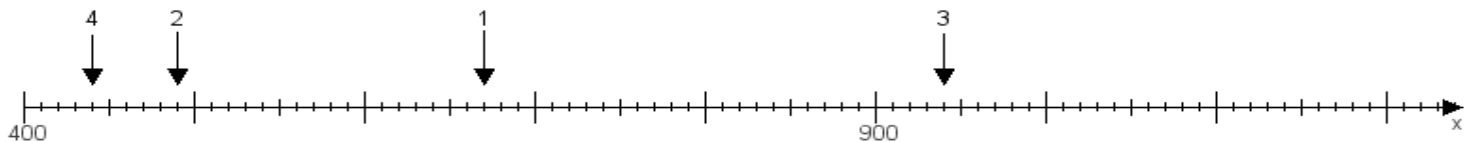
Aufgabe 1:

Ermittle die Werte von den Punkten 1 bis 4.



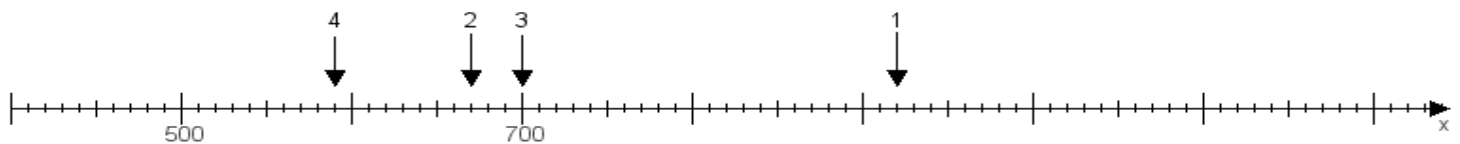
Aufgabe 2:

Ermittle die Werte von den Punkten 1 bis 4.



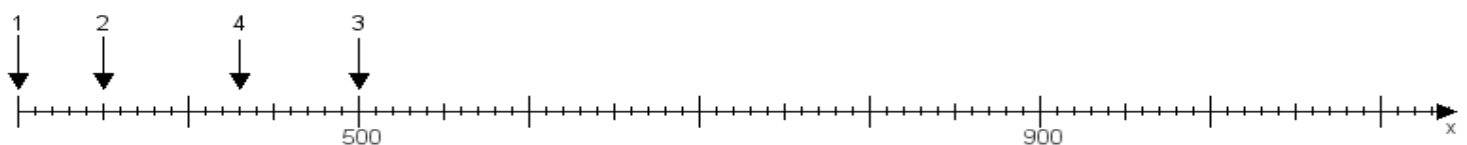
Aufgabe 3:

Ermittle die Werte von den Punkten 1 bis 4.



Aufgabe 4:

Ermittle die Werte von den Punkten 1 bis 4.



www.das-bastelteam.de -> Zahlenstrahl mit 4 Punkten. Blatt Nr.:434
Lösungen:

Aufgabe 1: Punkt 1 = 350, Punkt 2 = 480, Punkt 3 = 670, Punkt 4 = 600,

Aufgabe 2: Punkt 1 = 670, Punkt 2 = 490, Punkt 3 = 940, Punkt 4 = 440,

Aufgabe 3: Punkt 1 = 920, Punkt 2 = 670, Punkt 3 = 700, Punkt 4 = 590,

Aufgabe 4: Punkt 1 = 300, Punkt 2 = 350, Punkt 3 = 500, Punkt 4 = 430,