

Im Zahlenbereich bis max. 1000.

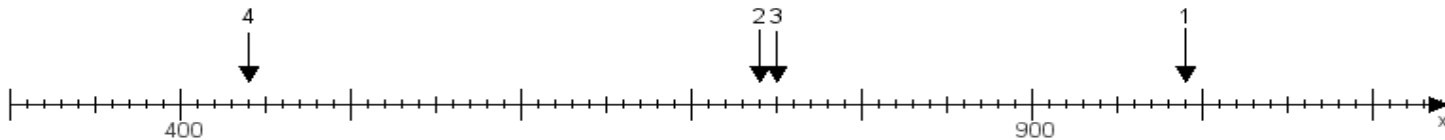
Name:

Klasse:

Datum:

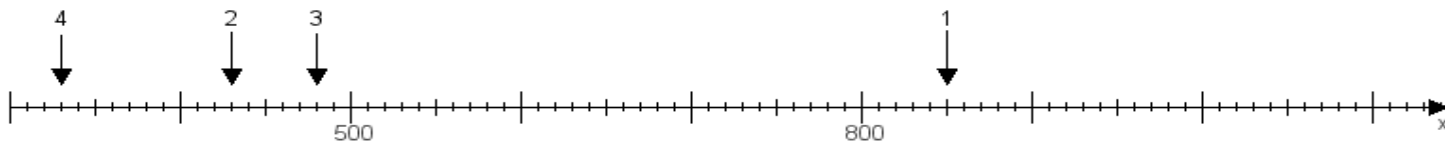
Aufgabe 1:

Ermittle die Werte von den Punkten 1 bis 4.



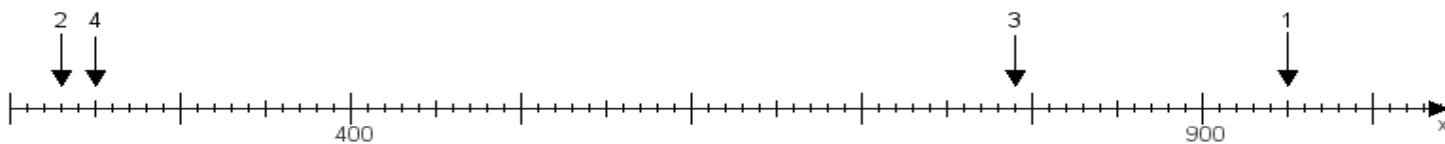
Aufgabe 2:

Ermittle die Werte von den Punkten 1 bis 4.



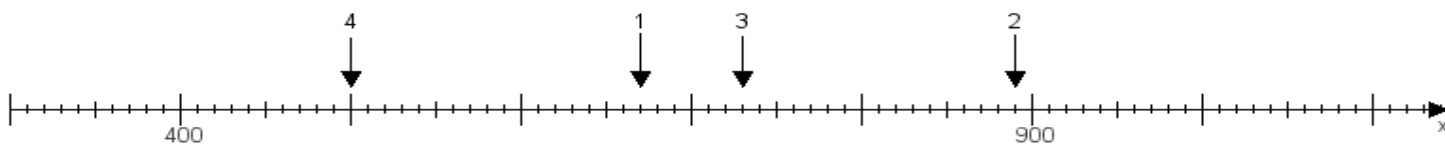
Aufgabe 3:

Ermittle die Werte von den Punkten 1 bis 4.



Aufgabe 4:

Ermittle die Werte von den Punkten 1 bis 4.



www.das-bastelteam.de -> Zahlenstrahl mit 4 Punkten. Blatt Nr.:433
Lösungen:

Aufgabe 1: Punkt 1 = 990, Punkt 2 = 740, Punkt 3 = 750, Punkt 4 = 440,

Aufgabe 2: Punkt 1 = 850, Punkt 2 = 430, Punkt 3 = 480, Punkt 4 = 330,

Aufgabe 3: Punkt 1 = 950, Punkt 2 = 230, Punkt 3 = 790, Punkt 4 = 250,

Aufgabe 4: Punkt 1 = 670, Punkt 2 = 890, Punkt 3 = 730, Punkt 4 = 500,