

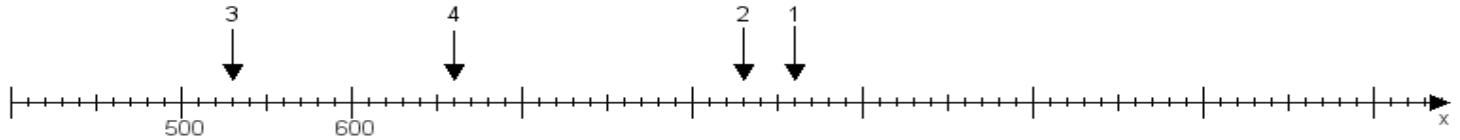
Name:

Klasse:

Datum:

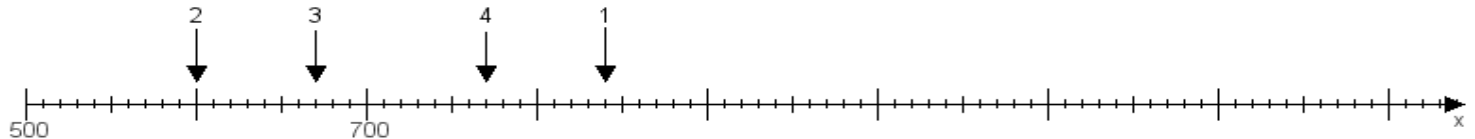
**Aufgabe 1:**

Ermittle die Werte von den Punkten 1 bis 4.



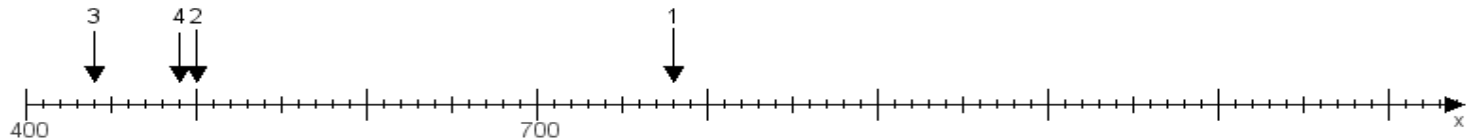
**Aufgabe 2:**

Ermittle die Werte von den Punkten 1 bis 4.



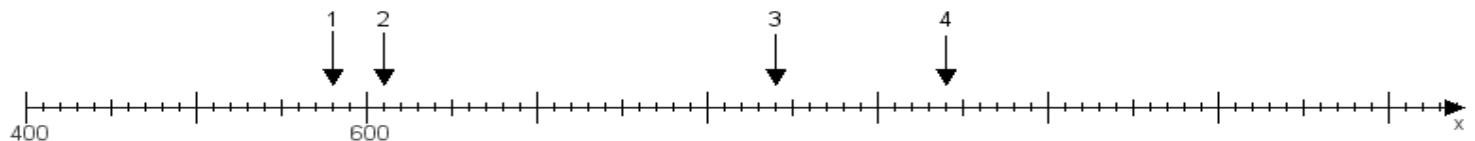
**Aufgabe 3:**

Ermittle die Werte von den Punkten 1 bis 4.



**Aufgabe 4:**

Ermittle die Werte von den Punkten 1 bis 4.



[www.das-bastelteam.de](http://www.das-bastelteam.de) -> Zahlenstrahl mit 4 Punkten. Blatt Nr.:431  
Lösungen:

Aufgabe 1: Punkt 1 = 860, Punkt 2 = 830, Punkt 3 = 530, Punkt 4 = 660,

Aufgabe 2: Punkt 1 = 840, Punkt 2 = 600, Punkt 3 = 670, Punkt 4 = 770,

Aufgabe 3: Punkt 1 = 780, Punkt 2 = 500, Punkt 3 = 440, Punkt 4 = 490,

Aufgabe 4: Punkt 1 = 580, Punkt 2 = 610, Punkt 3 = 840, Punkt 4 = 940,