

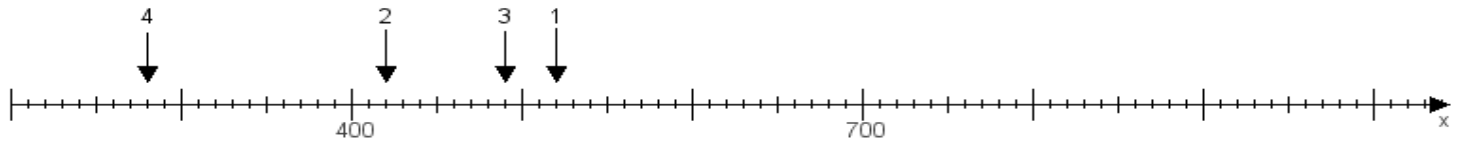
Name:

Klasse:

Datum:

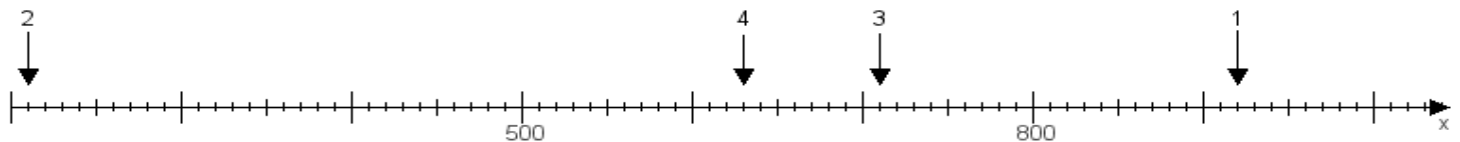
Aufgabe 1:

Ermittle die Werte von den Punkten 1 bis 4.



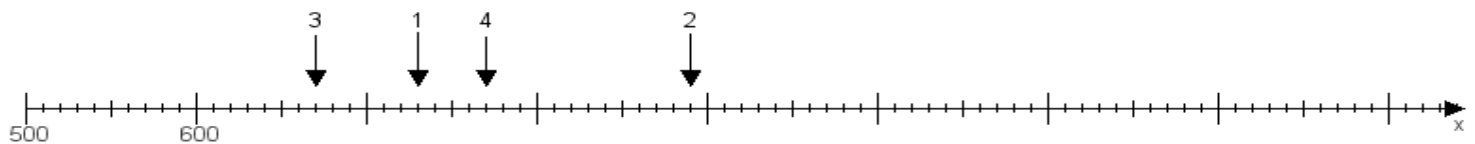
Aufgabe 2:

Ermittle die Werte von den Punkten 1 bis 4.



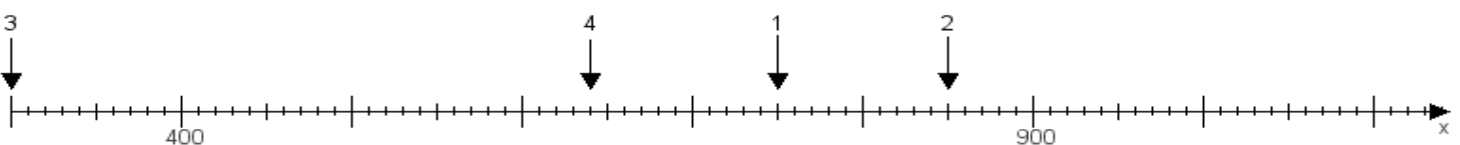
Aufgabe 3:

Ermittle die Werte von den Punkten 1 bis 4.



Aufgabe 4:

Ermittle die Werte von den Punkten 1 bis 4.



www.das-bastelteam.de -> Zahlenstrahl mit 4 Punkten. Blatt Nr.:430
Lösungen:

Aufgabe 1: Punkt 1 = 520, Punkt 2 = 420, Punkt 3 = 490, Punkt 4 = 280,

Aufgabe 2: Punkt 1 = 920, Punkt 2 = 210, Punkt 3 = 710, Punkt 4 = 630,

Aufgabe 3: Punkt 1 = 730, Punkt 2 = 890, Punkt 3 = 670, Punkt 4 = 770,

Aufgabe 4: Punkt 1 = 750, Punkt 2 = 850, Punkt 3 = 300, Punkt 4 = 640,