

Im Zahlenbereich bis max. 1000.

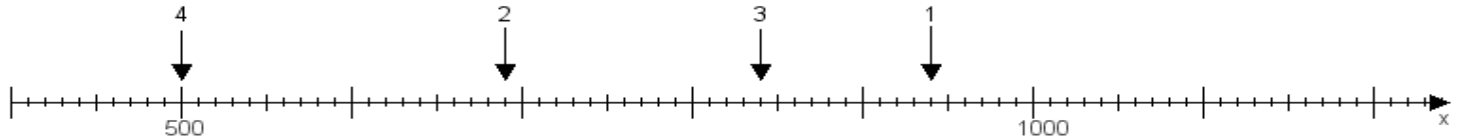
Name:

Klasse:

Datum:

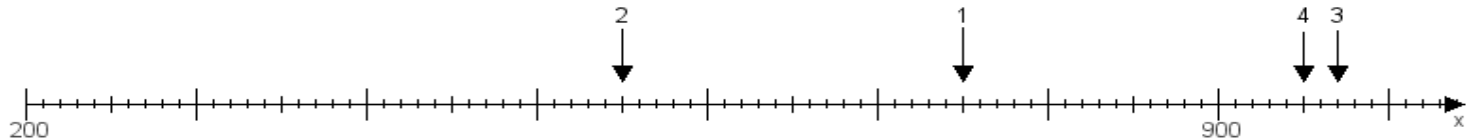
**Aufgabe 1:**

Ermittle die Werte von den Punkten 1 bis 4.



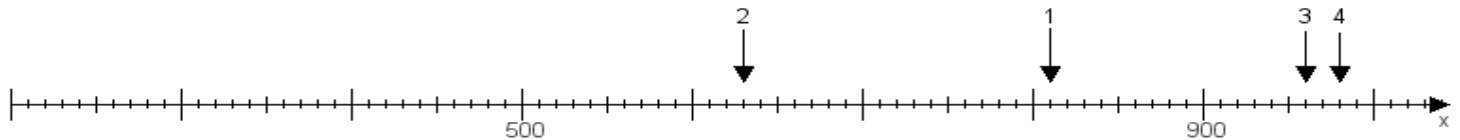
**Aufgabe 2:**

Ermittle die Werte von den Punkten 1 bis 4.



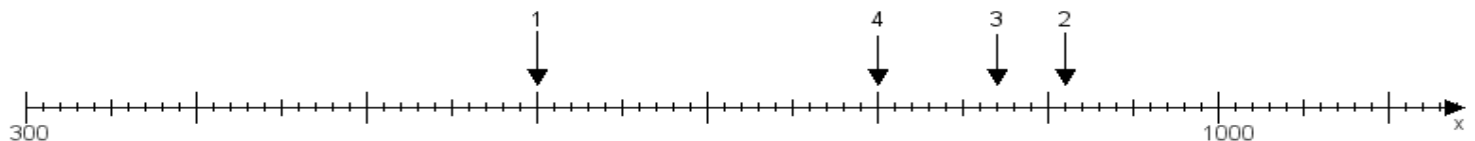
**Aufgabe 3:**

Ermittle die Werte von den Punkten 1 bis 4.



**Aufgabe 4:**

Ermittle die Werte von den Punkten 1 bis 4.



[www.das-bastelteam.de](http://www.das-bastelteam.de) -> Zahlenstrahl mit 4 Punkten. Blatt Nr.:428  
Lösungen:

Aufgabe 1: Punkt 1 = 940, Punkt 2 = 690, Punkt 3 = 840, Punkt 4 = 500,

Aufgabe 2: Punkt 1 = 750, Punkt 2 = 550, Punkt 3 = 970, Punkt 4 = 950,

Aufgabe 3: Punkt 1 = 810, Punkt 2 = 630, Punkt 3 = 960, Punkt 4 = 980,

Aufgabe 4: Punkt 1 = 600, Punkt 2 = 910, Punkt 3 = 870, Punkt 4 = 800,