

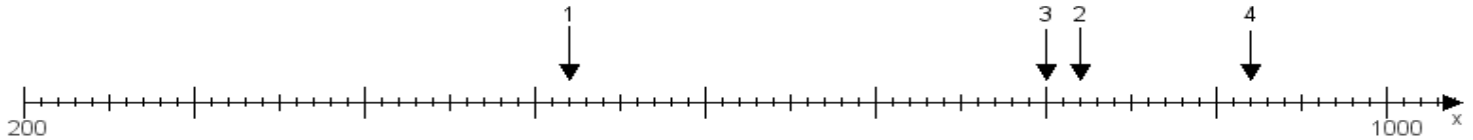
Name:

Klasse:

Datum:

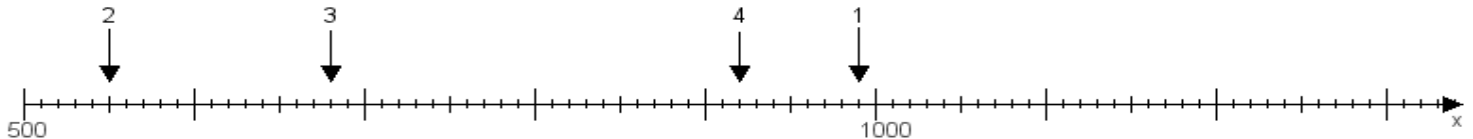
Aufgabe 1:

Ermittle die Werte von den Punkten 1 bis 4.



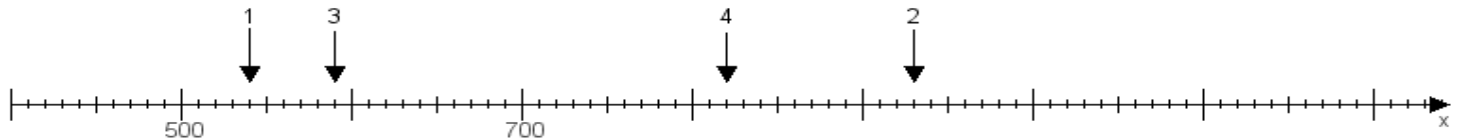
Aufgabe 2:

Ermittle die Werte von den Punkten 1 bis 4.



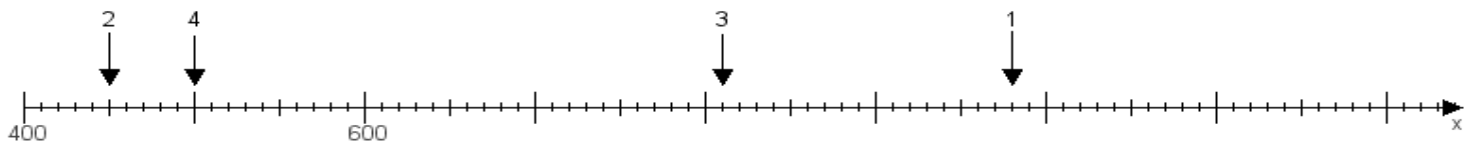
Aufgabe 3:

Ermittle die Werte von den Punkten 1 bis 4.



Aufgabe 4:

Ermittle die Werte von den Punkten 1 bis 4.



www.das-bastelteam.de -> Zahlenstrahl mit 4 Punkten. Blatt Nr.:427
Lösungen:

Aufgabe 1: Punkt 1 = 520, Punkt 2 = 820, Punkt 3 = 800, Punkt 4 = 920,

Aufgabe 2: Punkt 1 = 990, Punkt 2 = 550, Punkt 3 = 680, Punkt 4 = 920,

Aufgabe 3: Punkt 1 = 540, Punkt 2 = 930, Punkt 3 = 590, Punkt 4 = 820,

Aufgabe 4: Punkt 1 = 980, Punkt 2 = 450, Punkt 3 = 810, Punkt 4 = 500,