

Im Zahlenbereich bis max. 1000.

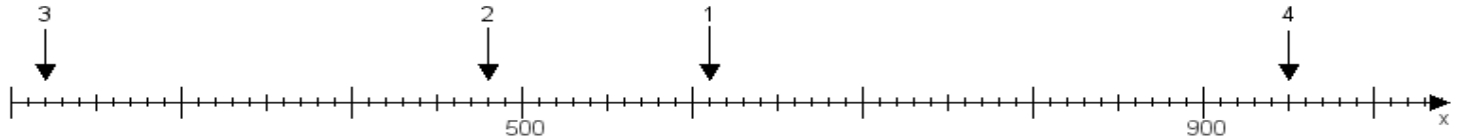
Name:

Klasse:

Datum:

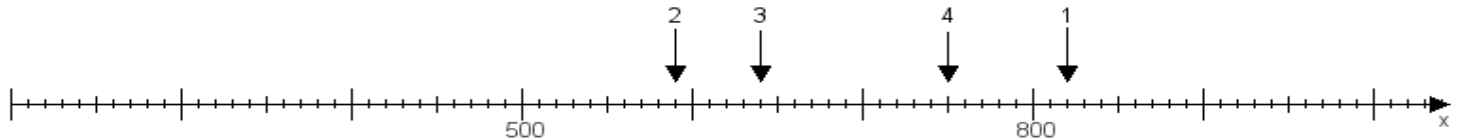
Aufgabe 1:

Ermittle die Werte von den Punkten 1 bis 4.



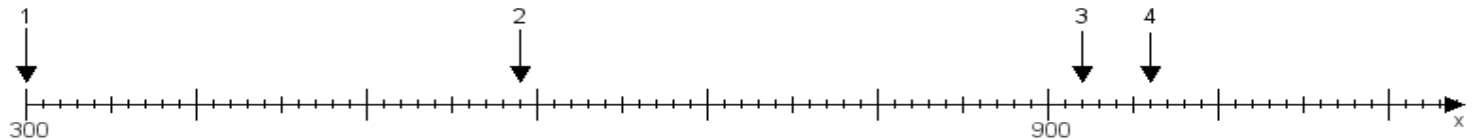
Aufgabe 2:

Ermittle die Werte von den Punkten 1 bis 4.



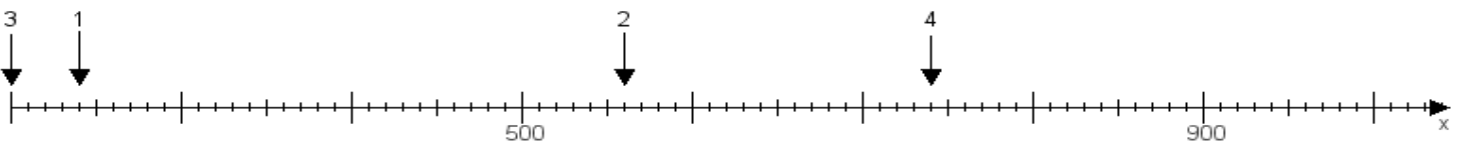
Aufgabe 3:

Ermittle die Werte von den Punkten 1 bis 4.



Aufgabe 4:

Ermittle die Werte von den Punkten 1 bis 4.



www.das-bastelteam.de -> Zahlenstrahl mit 4 Punkten. Blatt Nr.:425
Lösungen:

Aufgabe 1: Punkt 1 = 610, Punkt 2 = 480, Punkt 3 = 220, Punkt 4 = 950,

Aufgabe 2: Punkt 1 = 820, Punkt 2 = 590, Punkt 3 = 640, Punkt 4 = 750,

Aufgabe 3: Punkt 1 = 300, Punkt 2 = 590, Punkt 3 = 920, Punkt 4 = 960,

Aufgabe 4: Punkt 1 = 240, Punkt 2 = 560, Punkt 3 = 200, Punkt 4 = 740,