

Im Zahlenbereich bis max. 1000.

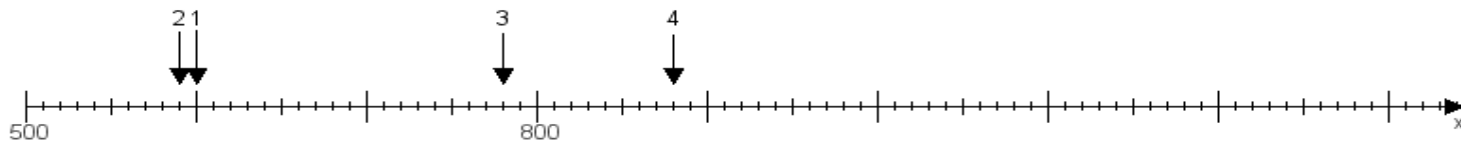
Name:

Klasse:

Datum:

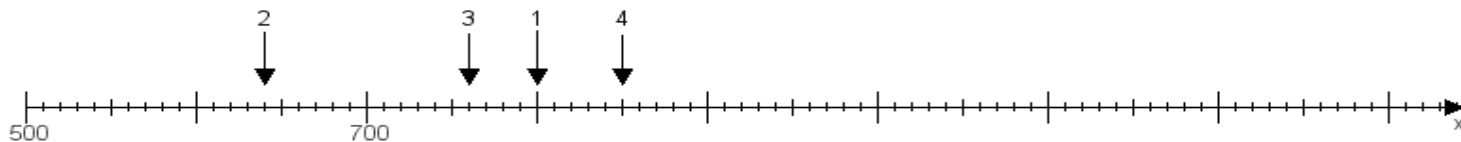
Aufgabe 1:

Ermittle die Werte von den Punkten 1 bis 4.



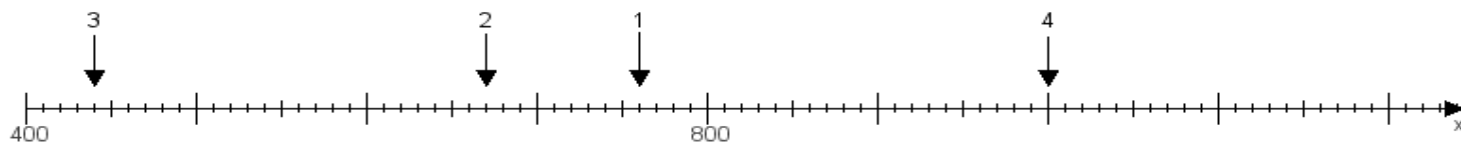
Aufgabe 2:

Ermittle die Werte von den Punkten 1 bis 4.



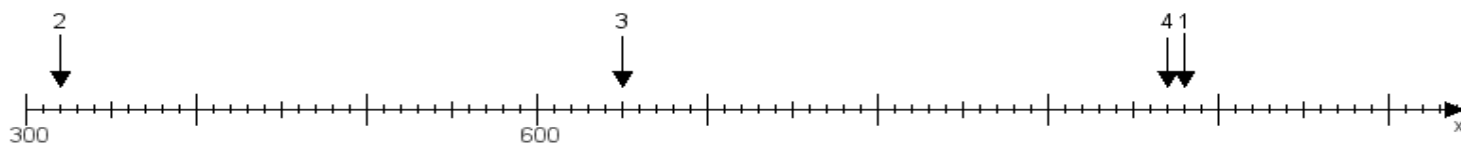
Aufgabe 3:

Ermittle die Werte von den Punkten 1 bis 4.



Aufgabe 4:

Ermittle die Werte von den Punkten 1 bis 4.



www.das-bastelteam.de -> Zahlenstrahl mit 4 Punkten. Blatt Nr.:424
Lösungen:

Aufgabe 1: Punkt 1 = 600, Punkt 2 = 590, Punkt 3 = 780, Punkt 4 = 880,

Aufgabe 2: Punkt 1 = 800, Punkt 2 = 640, Punkt 3 = 760, Punkt 4 = 850,

Aufgabe 3: Punkt 1 = 760, Punkt 2 = 670, Punkt 3 = 440, Punkt 4 = 1000,

Aufgabe 4: Punkt 1 = 980, Punkt 2 = 320, Punkt 3 = 650, Punkt 4 = 970,