

Im Zahlenbereich bis max. 1000.

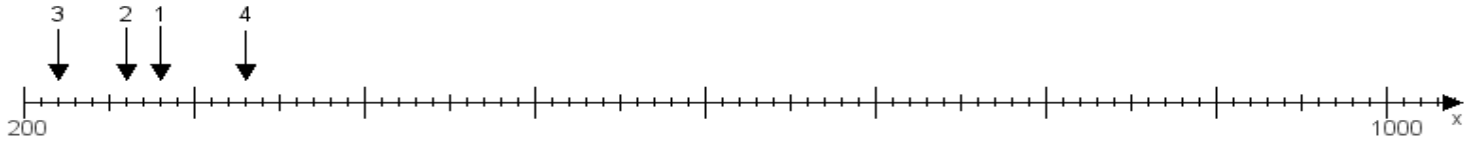
Name:

Klasse:

Datum:

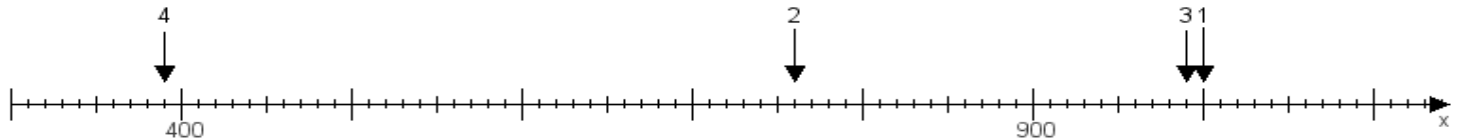
Aufgabe 1:

Ermittle die Werte von den Punkten 1 bis 4.



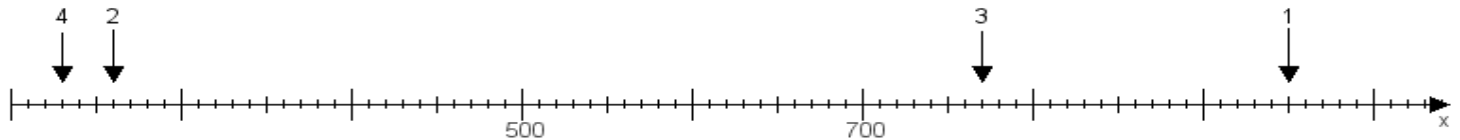
Aufgabe 2:

Ermittle die Werte von den Punkten 1 bis 4.



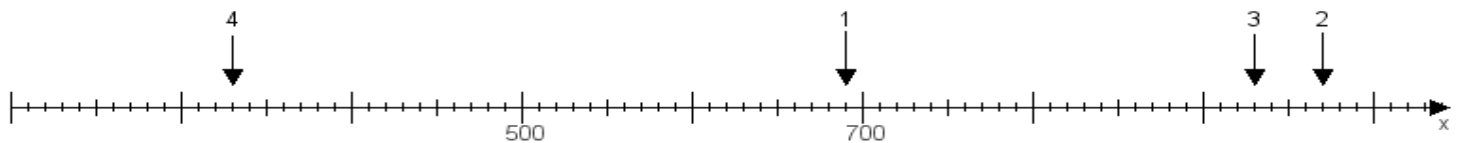
Aufgabe 3:

Ermittle die Werte von den Punkten 1 bis 4.



Aufgabe 4:

Ermittle die Werte von den Punkten 1 bis 4.



www.das-bastelteam.de -> Zahlenstrahl mit 4 Punkten. Blatt Nr.:423
Lösungen:

Aufgabe 1: Punkt 1 = 280, Punkt 2 = 260, Punkt 3 = 220, Punkt 4 = 330,

Aufgabe 2: Punkt 1 = 1000, Punkt 2 = 760, Punkt 3 = 990, Punkt 4 = 390,

Aufgabe 3: Punkt 1 = 950, Punkt 2 = 260, Punkt 3 = 770, Punkt 4 = 230,

Aufgabe 4: Punkt 1 = 690, Punkt 2 = 970, Punkt 3 = 930, Punkt 4 = 330,