

Im Zahlenbereich bis max. 1000.

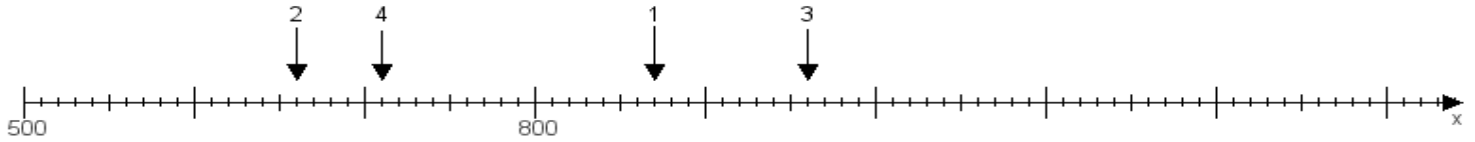
Name:

Klasse:

Datum:

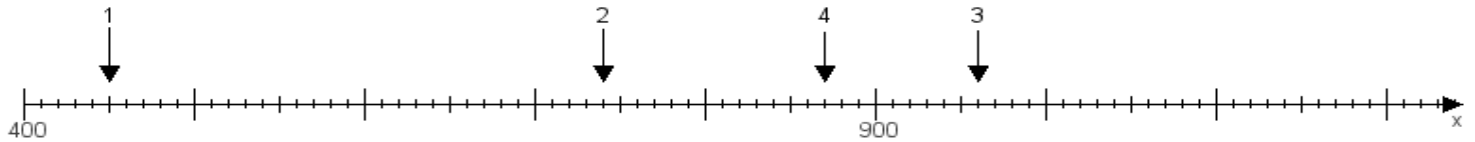
Aufgabe 1:

Ermittle die Werte von den Punkten 1 bis 4.



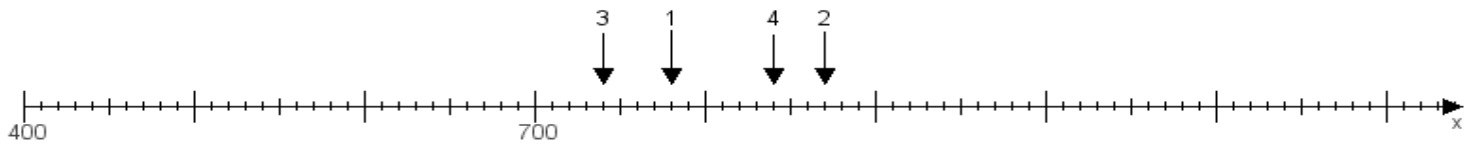
Aufgabe 2:

Ermittle die Werte von den Punkten 1 bis 4.



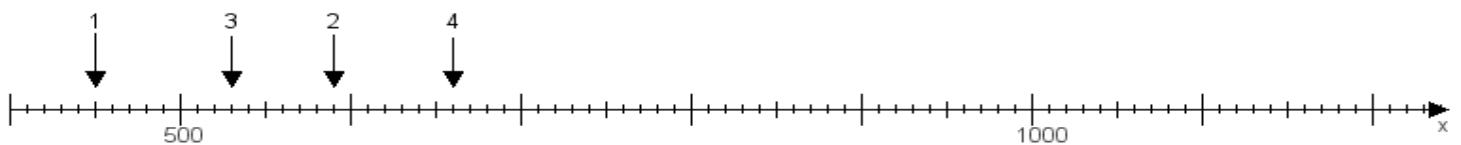
Aufgabe 3:

Ermittle die Werte von den Punkten 1 bis 4.



Aufgabe 4:

Ermittle die Werte von den Punkten 1 bis 4.



www.das-bastelteam.de -> Zahlenstrahl mit 4 Punkten. Blatt Nr.:415
Lösungen:

Aufgabe 1: Punkt 1 = 870, Punkt 2 = 660, Punkt 3 = 960, Punkt 4 = 710,

Aufgabe 2: Punkt 1 = 450, Punkt 2 = 740, Punkt 3 = 960, Punkt 4 = 870,

Aufgabe 3: Punkt 1 = 780, Punkt 2 = 870, Punkt 3 = 740, Punkt 4 = 840,

Aufgabe 4: Punkt 1 = 450, Punkt 2 = 590, Punkt 3 = 530, Punkt 4 = 660,