

Im Zahlenbereich bis max. 1000.

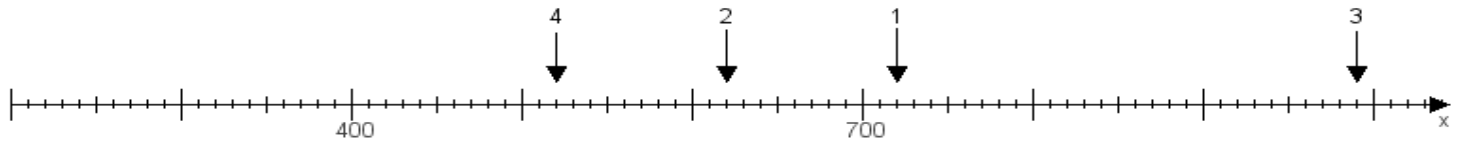
Name:

Klasse:

Datum:

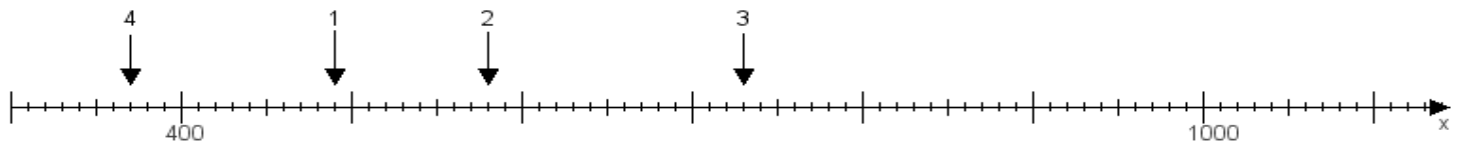
**Aufgabe 1:**

Ermittle die Werte von den Punkten 1 bis 4.



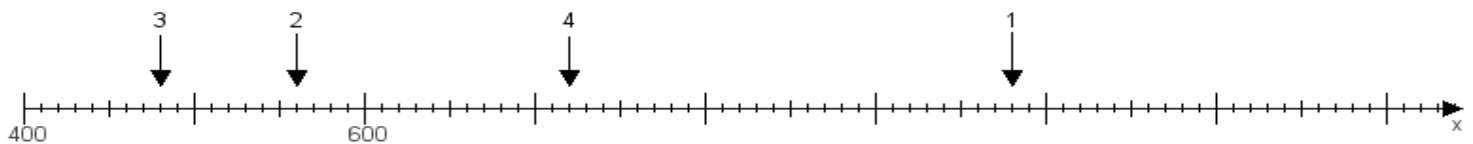
**Aufgabe 2:**

Ermittle die Werte von den Punkten 1 bis 4.



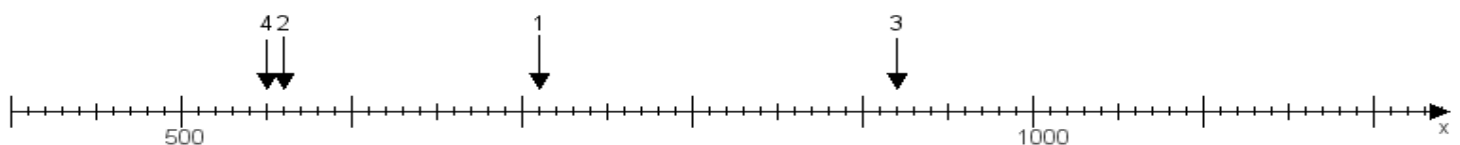
**Aufgabe 3:**

Ermittle die Werte von den Punkten 1 bis 4.



**Aufgabe 4:**

Ermittle die Werte von den Punkten 1 bis 4.



[www.das-bastelteam.de](http://www.das-bastelteam.de) -> Zahlenstrahl mit 4 Punkten. Blatt Nr.:414  
Lösungen:

Aufgabe 1: Punkt 1 = 720, Punkt 2 = 620, Punkt 3 = 990, Punkt 4 = 520,

Aufgabe 2: Punkt 1 = 490, Punkt 2 = 580, Punkt 3 = 730, Punkt 4 = 370,

Aufgabe 3: Punkt 1 = 980, Punkt 2 = 560, Punkt 3 = 480, Punkt 4 = 720,

Aufgabe 4: Punkt 1 = 710, Punkt 2 = 560, Punkt 3 = 920, Punkt 4 = 550,