

Im Zahlenbereich bis max. 1000.

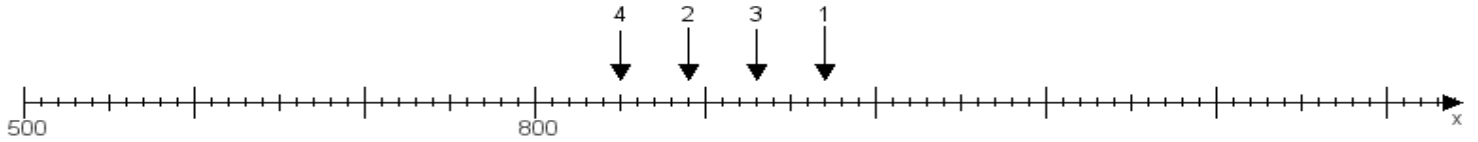
Name:

Klasse:

Datum:

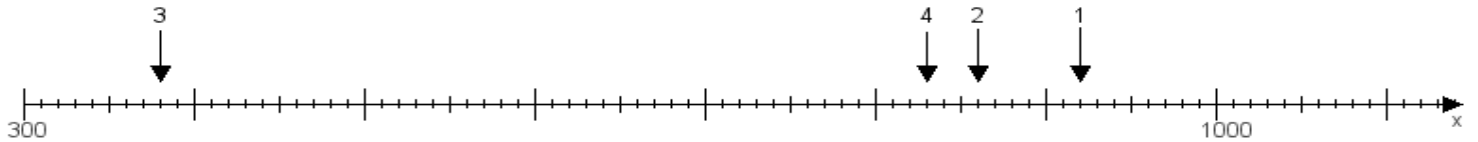
Aufgabe 1:

Ermittle die Werte von den Punkten 1 bis 4.



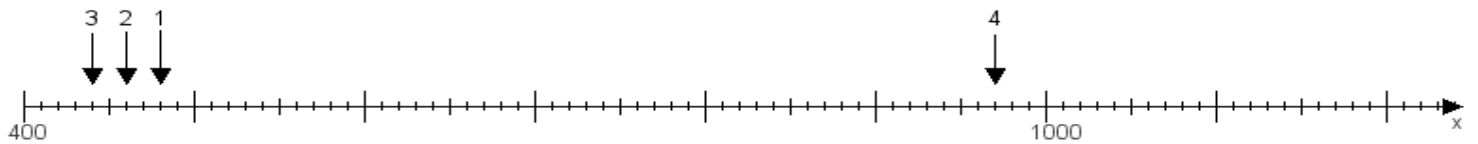
Aufgabe 2:

Ermittle die Werte von den Punkten 1 bis 4.



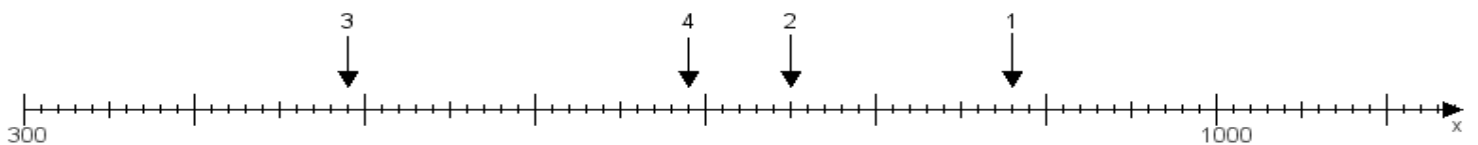
Aufgabe 3:

Ermittle die Werte von den Punkten 1 bis 4.



Aufgabe 4:

Ermittle die Werte von den Punkten 1 bis 4.



www.das-bastelteam.de -> Zahlenstrahl mit 4 Punkten. Blatt Nr.:413
Lösungen:

Aufgabe 1: Punkt 1 = 970, Punkt 2 = 890, Punkt 3 = 930, Punkt 4 = 850,

Aufgabe 2: Punkt 1 = 920, Punkt 2 = 860, Punkt 3 = 380, Punkt 4 = 830,

Aufgabe 3: Punkt 1 = 480, Punkt 2 = 460, Punkt 3 = 440, Punkt 4 = 970,

Aufgabe 4: Punkt 1 = 880, Punkt 2 = 750, Punkt 3 = 490, Punkt 4 = 690,

www.bin-dann-weg.de -> Ferienwohnungen und Ferienhäuser.

www.kleinanzeigen-und-annoncen.de -> Kostenlose Kleinanzeigen deutschlandweit.