

Im Zahlenbereich bis max. 1000.

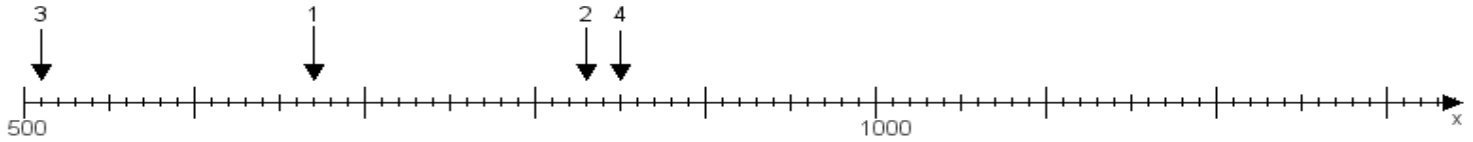
Name:

Klasse:

Datum:

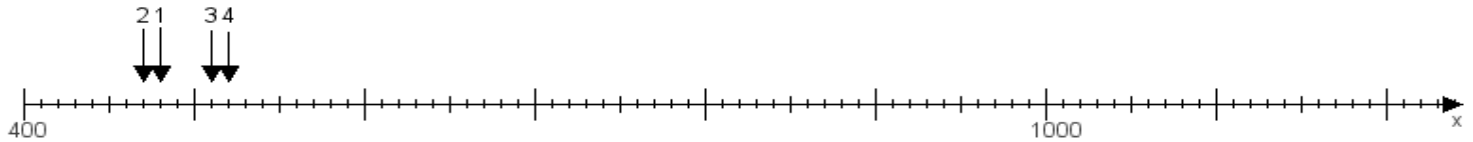
Aufgabe 1:

Ermittle die Werte von den Punkten 1 bis 4.



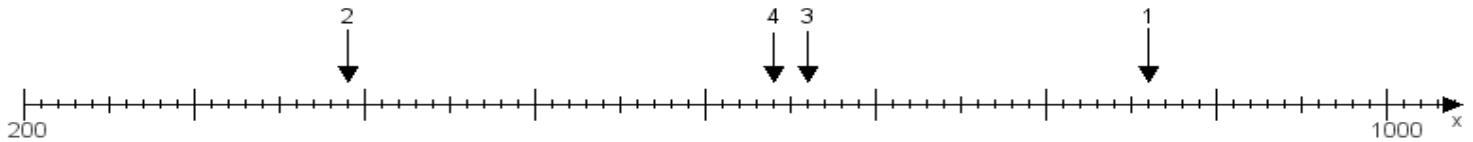
Aufgabe 2:

Ermittle die Werte von den Punkten 1 bis 4.



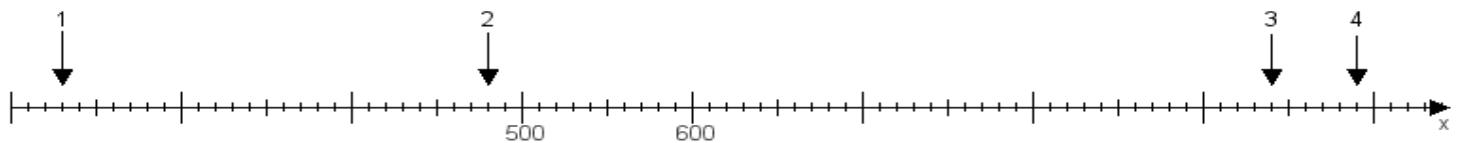
Aufgabe 3:

Ermittle die Werte von den Punkten 1 bis 4.



Aufgabe 4:

Ermittle die Werte von den Punkten 1 bis 4.



www.das-bastelteam.de -> Zahlenstrahl mit 4 Punkten. Blatt Nr.:411
Lösungen:

Aufgabe 1: Punkt 1 = 670, Punkt 2 = 830, Punkt 3 = 510, Punkt 4 = 850,

Aufgabe 2: Punkt 1 = 480, Punkt 2 = 470, Punkt 3 = 510, Punkt 4 = 520,

Aufgabe 3: Punkt 1 = 860, Punkt 2 = 390, Punkt 3 = 660, Punkt 4 = 640,

Aufgabe 4: Punkt 1 = 230, Punkt 2 = 480, Punkt 3 = 940, Punkt 4 = 990,