

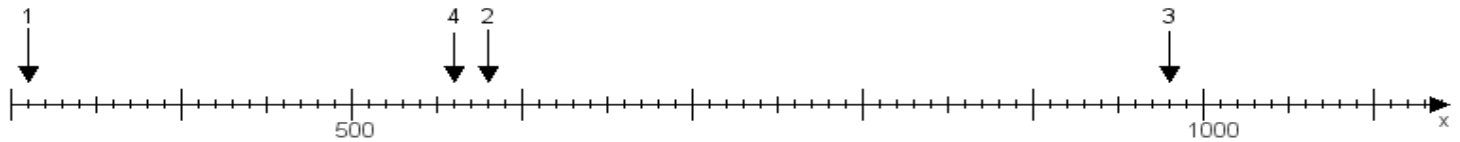
Name:

Klasse:

Datum:

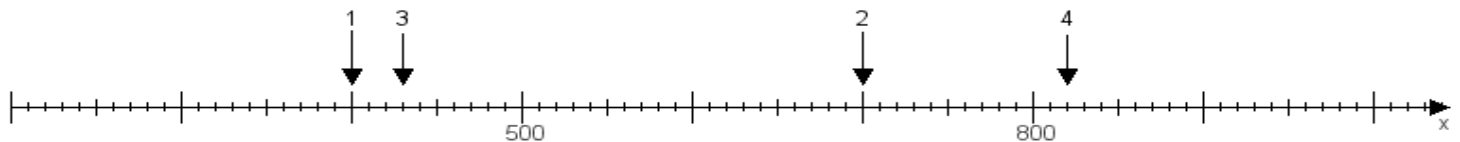
**Aufgabe 1:**

Ermittle die Werte von den Punkten 1 bis 4.



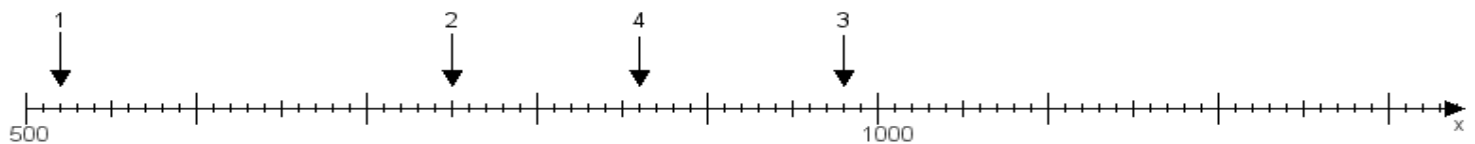
**Aufgabe 2:**

Ermittle die Werte von den Punkten 1 bis 4.



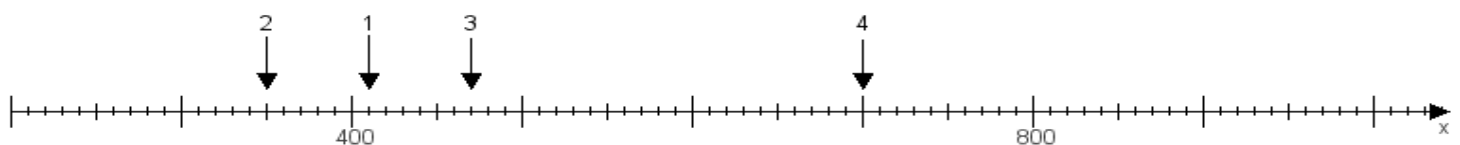
**Aufgabe 3:**

Ermittle die Werte von den Punkten 1 bis 4.



**Aufgabe 4:**

Ermittle die Werte von den Punkten 1 bis 4.



[www.das-bastelteam.de](http://www.das-bastelteam.de) -> Zahlenstrahl mit 4 Punkten. Blatt Nr.:408  
Lösungen:

Aufgabe 1: Punkt 1 = 310, Punkt 2 = 580, Punkt 3 = 980, Punkt 4 = 560,

Aufgabe 2: Punkt 1 = 400, Punkt 2 = 700, Punkt 3 = 430, Punkt 4 = 820,

Aufgabe 3: Punkt 1 = 520, Punkt 2 = 750, Punkt 3 = 980, Punkt 4 = 860,

Aufgabe 4: Punkt 1 = 410, Punkt 2 = 350, Punkt 3 = 470, Punkt 4 = 700,