

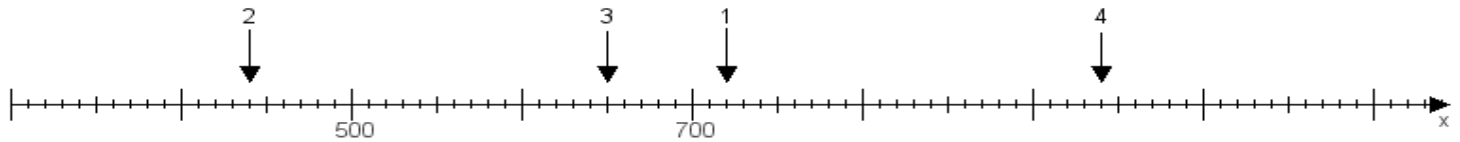
Name:

Klasse:

Datum:

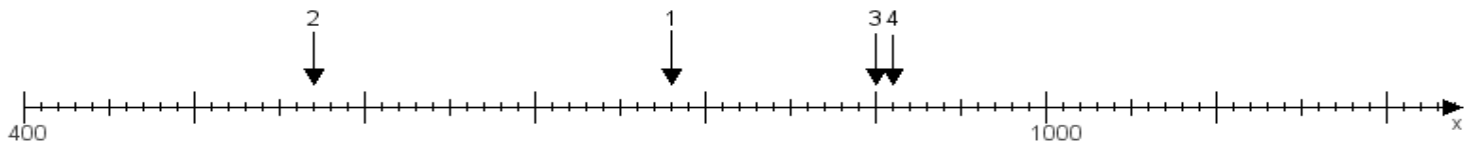
**Aufgabe 1:**

Ermittle die Werte von den Punkten 1 bis 4.



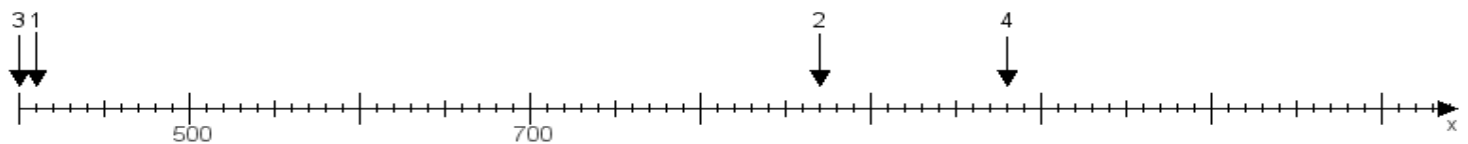
**Aufgabe 2:**

Ermittle die Werte von den Punkten 1 bis 4.



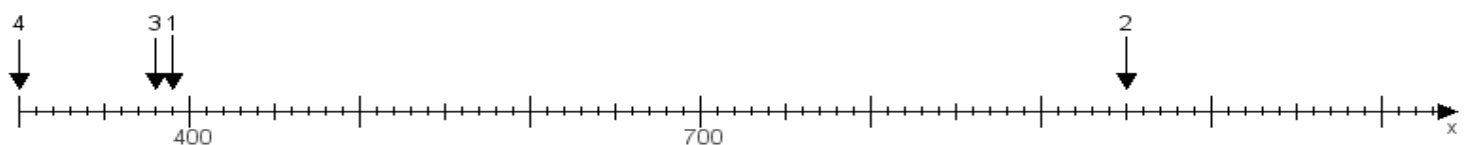
**Aufgabe 3:**

Ermittle die Werte von den Punkten 1 bis 4.



**Aufgabe 4:**

Ermittle die Werte von den Punkten 1 bis 4.



[www.das-bastelteam.de](http://www.das-bastelteam.de) -> Zahlenstrahl mit 4 Punkten. Blatt Nr.:404  
Lösungen:

Aufgabe 1: Punkt 1 = 720, Punkt 2 = 440, Punkt 3 = 650, Punkt 4 = 940,

Aufgabe 2: Punkt 1 = 780, Punkt 2 = 570, Punkt 3 = 900, Punkt 4 = 910,

Aufgabe 3: Punkt 1 = 410, Punkt 2 = 870, Punkt 3 = 400, Punkt 4 = 980,

Aufgabe 4: Punkt 1 = 390, Punkt 2 = 950, Punkt 3 = 380, Punkt 4 = 300,