

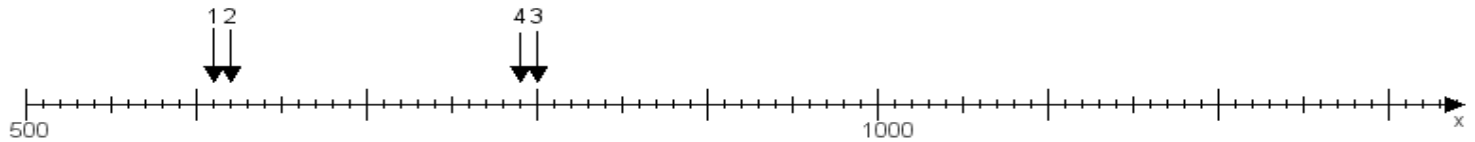
Name:

Klasse:

Datum:

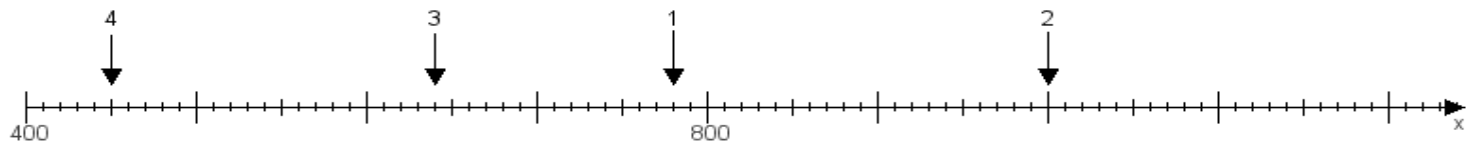
Aufgabe 1:

Ermittle die Werte von den Punkten 1 bis 4.



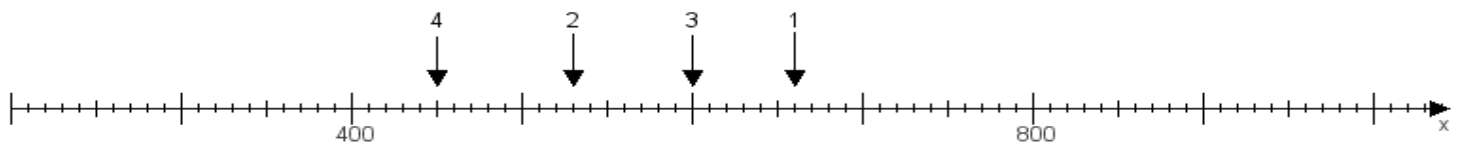
Aufgabe 2:

Ermittle die Werte von den Punkten 1 bis 4.



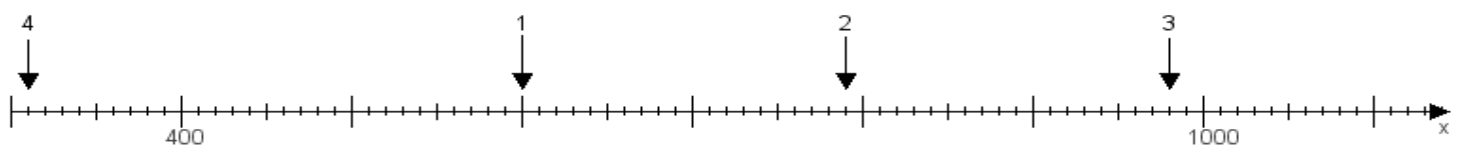
Aufgabe 3:

Ermittle die Werte von den Punkten 1 bis 4.



Aufgabe 4:

Ermittle die Werte von den Punkten 1 bis 4.



www.das-bastelteam.de -> Zahlenstrahl mit 4 Punkten. Blatt Nr.:400
Lösungen:

Aufgabe 1: Punkt 1 = 610, Punkt 2 = 620, Punkt 3 = 800, Punkt 4 = 790,

Aufgabe 2: Punkt 1 = 780, Punkt 2 = 1000, Punkt 3 = 640, Punkt 4 = 450,

Aufgabe 3: Punkt 1 = 660, Punkt 2 = 530, Punkt 3 = 600, Punkt 4 = 450,

Aufgabe 4: Punkt 1 = 600, Punkt 2 = 790, Punkt 3 = 980, Punkt 4 = 310,