

Im Zahlenbereich bis max. 1000.

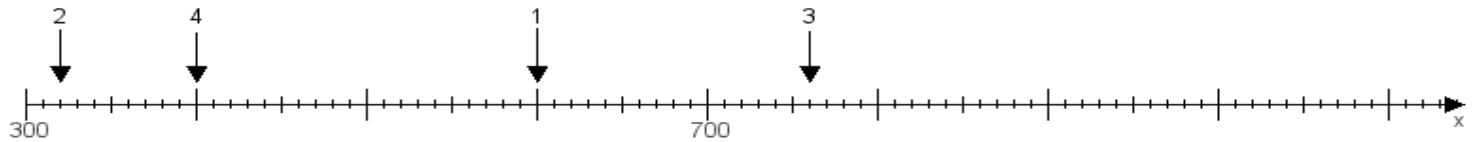
Name:

Klasse:

Datum:

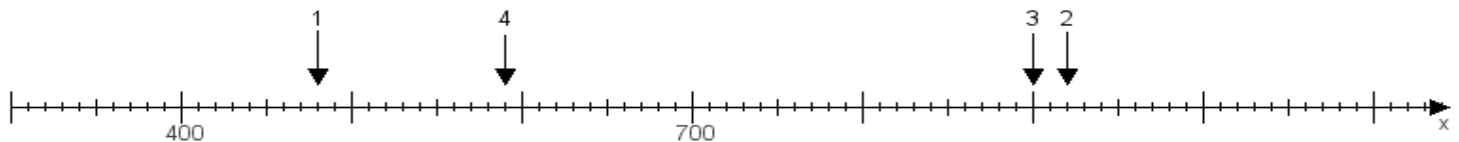
Aufgabe 1:

Ermittle die Werte von den Punkten 1 bis 4.



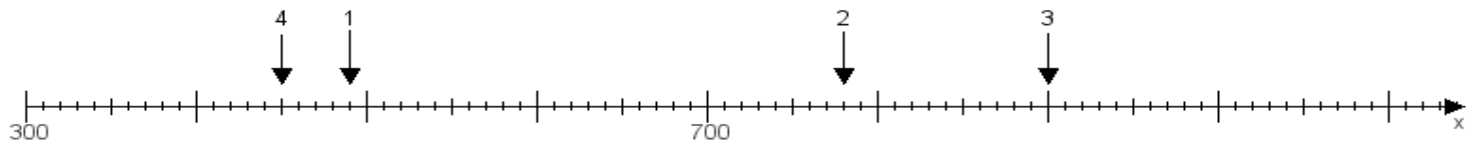
Aufgabe 2:

Ermittle die Werte von den Punkten 1 bis 4.



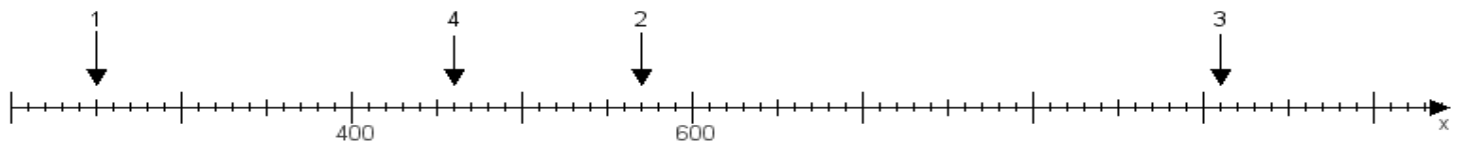
Aufgabe 3:

Ermittle die Werte von den Punkten 1 bis 4.



Aufgabe 4:

Ermittle die Werte von den Punkten 1 bis 4.



www.das-bastelteam.de -> Zahlenstrahl mit 4 Punkten. Blatt Nr.:39
Lösungen:

Aufgabe 1: Punkt 1 = 600, Punkt 2 = 320, Punkt 3 = 760, Punkt 4 = 400,

Aufgabe 2: Punkt 1 = 480, Punkt 2 = 920, Punkt 3 = 900, Punkt 4 = 590,

Aufgabe 3: Punkt 1 = 490, Punkt 2 = 780, Punkt 3 = 900, Punkt 4 = 450,

Aufgabe 4: Punkt 1 = 250, Punkt 2 = 570, Punkt 3 = 910, Punkt 4 = 460,