

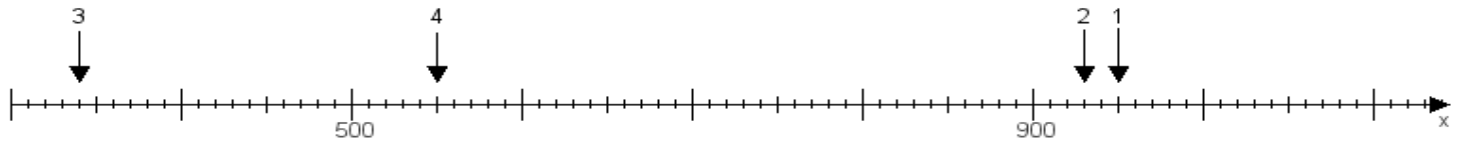
Name:

Klasse:

Datum:

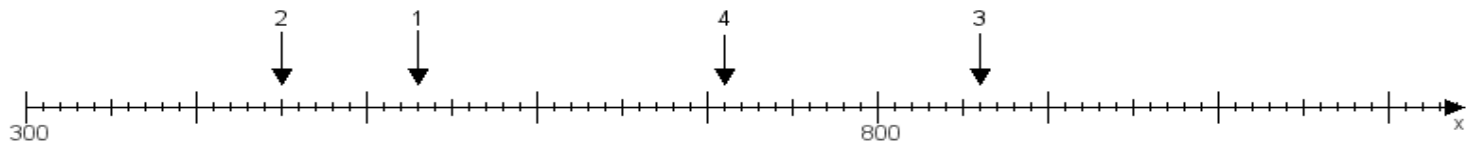
Aufgabe 1:

Ermittle die Werte von den Punkten 1 bis 4.



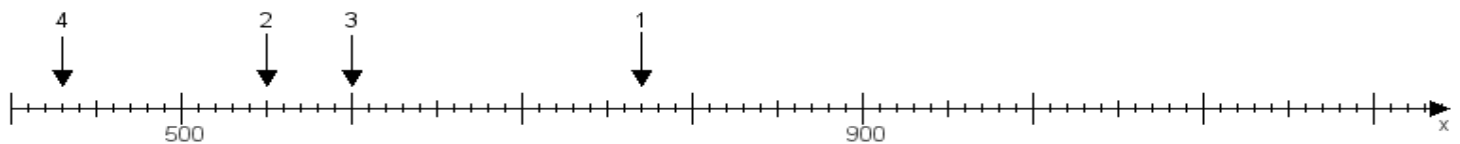
Aufgabe 2:

Ermittle die Werte von den Punkten 1 bis 4.



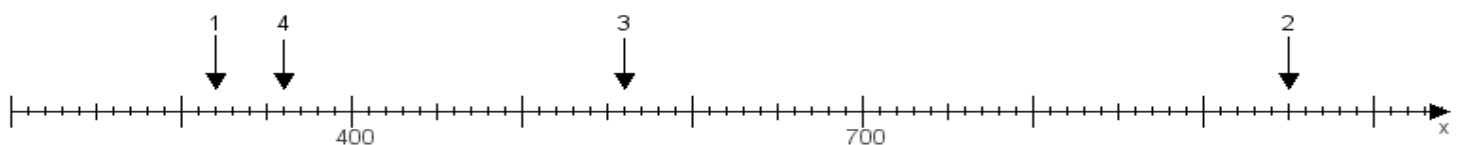
Aufgabe 3:

Ermittle die Werte von den Punkten 1 bis 4.



Aufgabe 4:

Ermittle die Werte von den Punkten 1 bis 4.



www.das-bastelteam.de -> Zahlenstrahl mit 4 Punkten. Blatt Nr.:399
Lösungen:

Aufgabe 1: Punkt 1 = 950, Punkt 2 = 930, Punkt 3 = 340, Punkt 4 = 550,

Aufgabe 2: Punkt 1 = 530, Punkt 2 = 450, Punkt 3 = 860, Punkt 4 = 710,

Aufgabe 3: Punkt 1 = 770, Punkt 2 = 550, Punkt 3 = 600, Punkt 4 = 430,

Aufgabe 4: Punkt 1 = 320, Punkt 2 = 950, Punkt 3 = 560, Punkt 4 = 360,