

Im Zahlenbereich bis max. 1000.

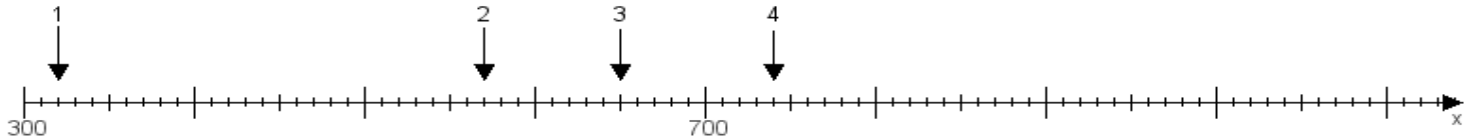
Name:

Klasse:

Datum:

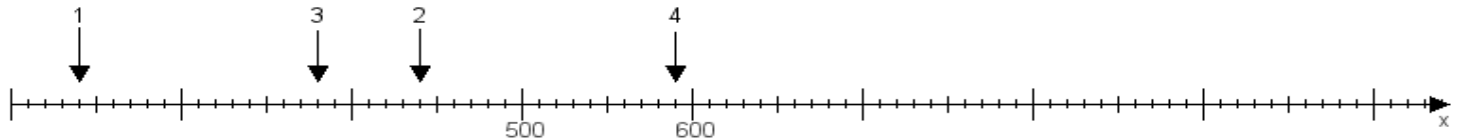
Aufgabe 1:

Ermittle die Werte von den Punkten 1 bis 4.



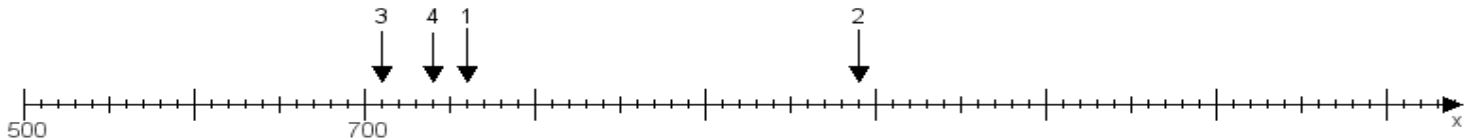
Aufgabe 2:

Ermittle die Werte von den Punkten 1 bis 4.



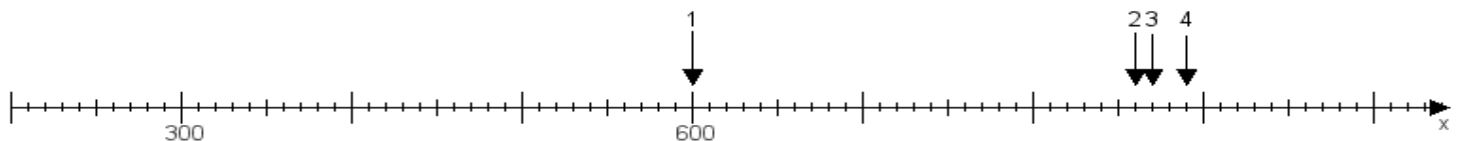
Aufgabe 3:

Ermittle die Werte von den Punkten 1 bis 4.



Aufgabe 4:

Ermittle die Werte von den Punkten 1 bis 4.



www.das-bastelteam.de -> Zahlenstrahl mit 4 Punkten. Blatt Nr.:397
Lösungen:

Aufgabe 1: Punkt 1 = 320, Punkt 2 = 570, Punkt 3 = 650, Punkt 4 = 740,

Aufgabe 2: Punkt 1 = 240, Punkt 2 = 440, Punkt 3 = 380, Punkt 4 = 590,

Aufgabe 3: Punkt 1 = 760, Punkt 2 = 990, Punkt 3 = 710, Punkt 4 = 740,

Aufgabe 4: Punkt 1 = 600, Punkt 2 = 860, Punkt 3 = 870, Punkt 4 = 890,