

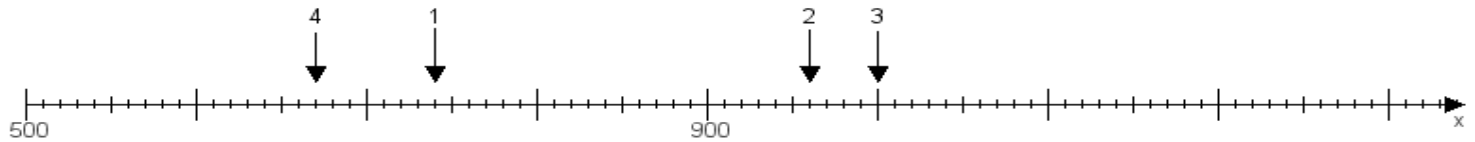
Name:

Klasse:

Datum:

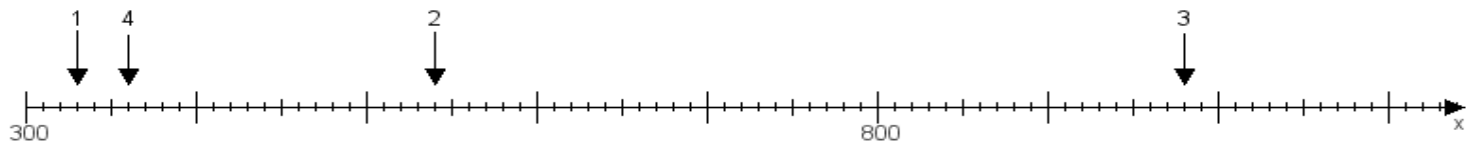
Aufgabe 1:

Ermittle die Werte von den Punkten 1 bis 4.



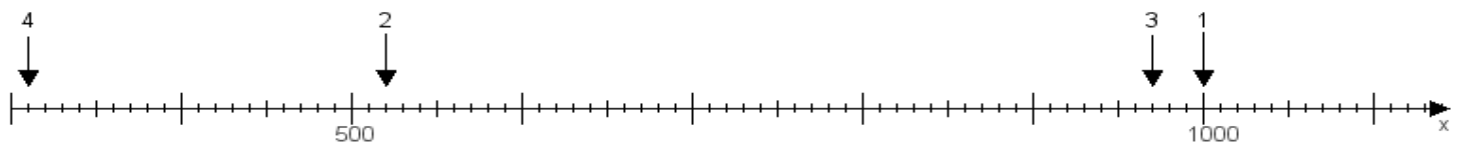
Aufgabe 2:

Ermittle die Werte von den Punkten 1 bis 4.



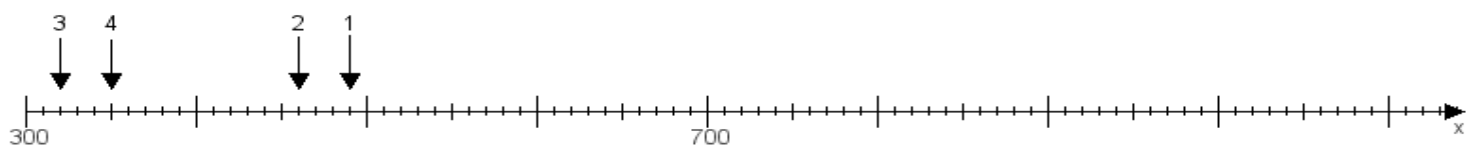
Aufgabe 3:

Ermittle die Werte von den Punkten 1 bis 4.



Aufgabe 4:

Ermittle die Werte von den Punkten 1 bis 4.



www.das-bastelteam.de -> Zahlenstrahl mit 4 Punkten. Blatt Nr.:396
Lösungen:

Aufgabe 1: Punkt 1 = 740, Punkt 2 = 960, Punkt 3 = 1000, Punkt 4 = 670,

Aufgabe 2: Punkt 1 = 330, Punkt 2 = 540, Punkt 3 = 980, Punkt 4 = 360,

Aufgabe 3: Punkt 1 = 1000, Punkt 2 = 520, Punkt 3 = 970, Punkt 4 = 310,

Aufgabe 4: Punkt 1 = 490, Punkt 2 = 460, Punkt 3 = 320, Punkt 4 = 350,