

Im Zahlenbereich bis max. 1000.

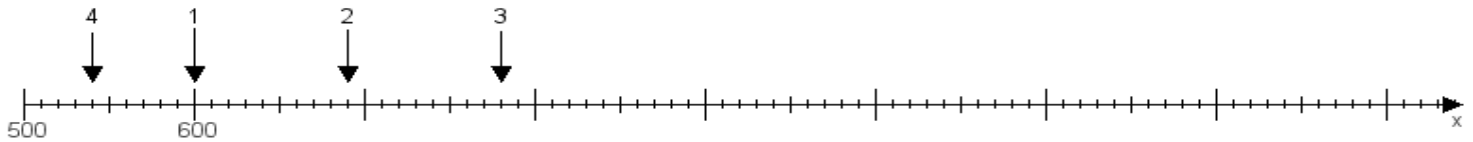
Name:

Klasse:

Datum:

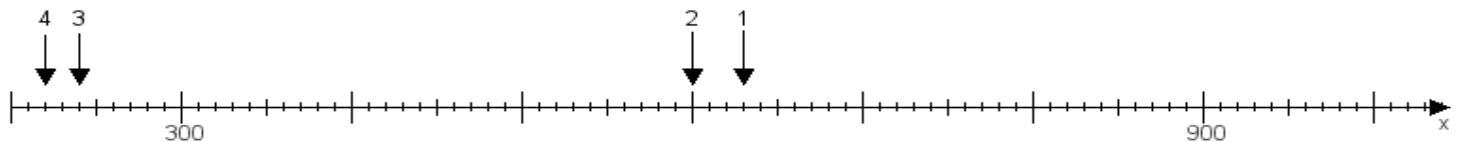
Aufgabe 1:

Ermittle die Werte von den Punkten 1 bis 4.



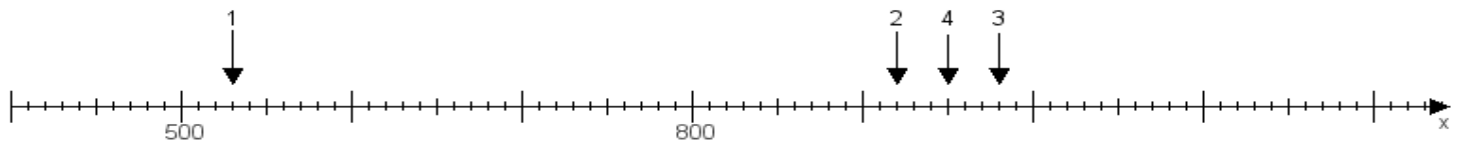
Aufgabe 2:

Ermittle die Werte von den Punkten 1 bis 4.



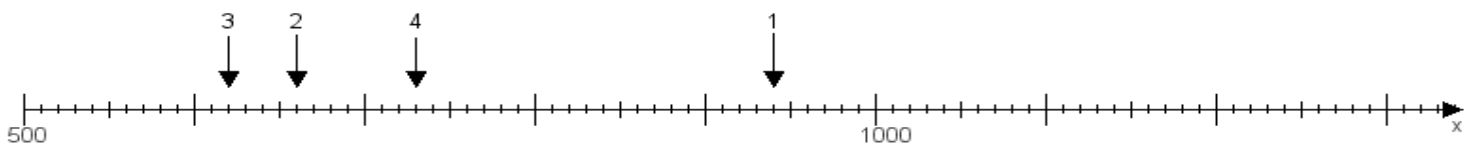
Aufgabe 3:

Ermittle die Werte von den Punkten 1 bis 4.



Aufgabe 4:

Ermittle die Werte von den Punkten 1 bis 4.



www.das-bastelteam.de -> Zahlenstrahl mit 4 Punkten. Blatt Nr.:395
Lösungen:

Aufgabe 1: Punkt 1 = 600, Punkt 2 = 690, Punkt 3 = 780, Punkt 4 = 540,

Aufgabe 2: Punkt 1 = 630, Punkt 2 = 600, Punkt 3 = 240, Punkt 4 = 220,

Aufgabe 3: Punkt 1 = 530, Punkt 2 = 920, Punkt 3 = 980, Punkt 4 = 950,

Aufgabe 4: Punkt 1 = 940, Punkt 2 = 660, Punkt 3 = 620, Punkt 4 = 730,