

Im Zahlenbereich bis max. 1000.

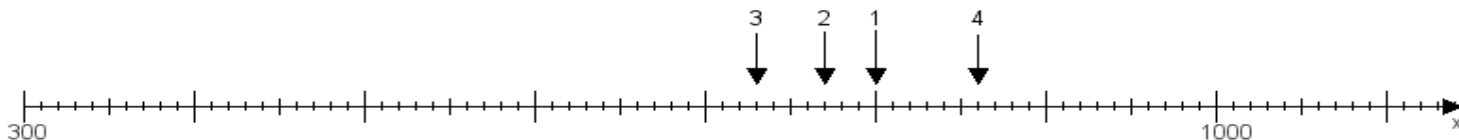
Name:

Klasse:

Datum:

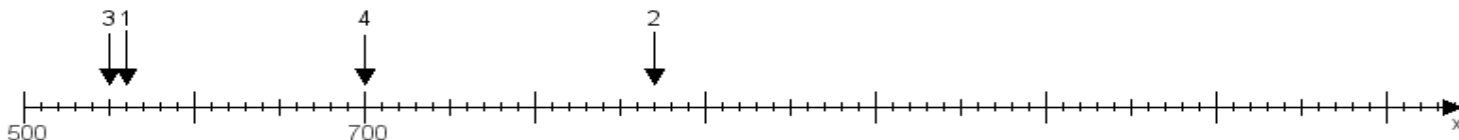
Aufgabe 1:

Ermittle die Werte von den Punkten 1 bis 4.



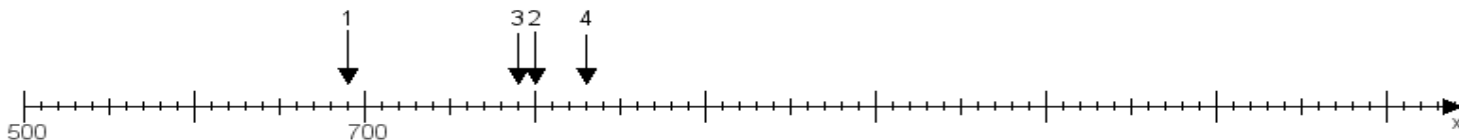
Aufgabe 2:

Ermittle die Werte von den Punkten 1 bis 4.



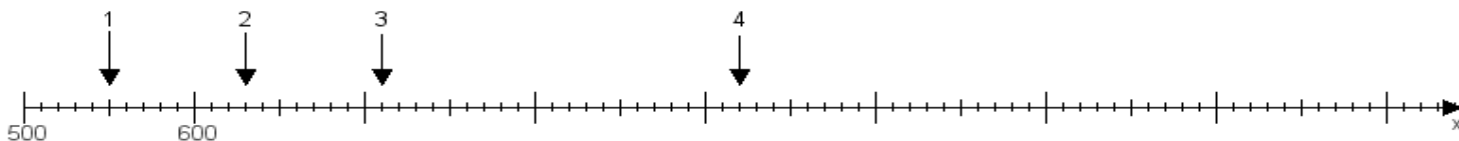
Aufgabe 3:

Ermittle die Werte von den Punkten 1 bis 4.



Aufgabe 4:

Ermittle die Werte von den Punkten 1 bis 4.



www.das-bastelteam.de -> Zahlenstrahl mit 4 Punkten. Blatt Nr.:393
Lösungen:

Aufgabe 1: Punkt 1 = 800, Punkt 2 = 770, Punkt 3 = 730, Punkt 4 = 860,

Aufgabe 2: Punkt 1 = 560, Punkt 2 = 870, Punkt 3 = 550, Punkt 4 = 700,

Aufgabe 3: Punkt 1 = 690, Punkt 2 = 800, Punkt 3 = 790, Punkt 4 = 830,

Aufgabe 4: Punkt 1 = 550, Punkt 2 = 630, Punkt 3 = 710, Punkt 4 = 920,