

Im Zahlenbereich bis max. 1000.

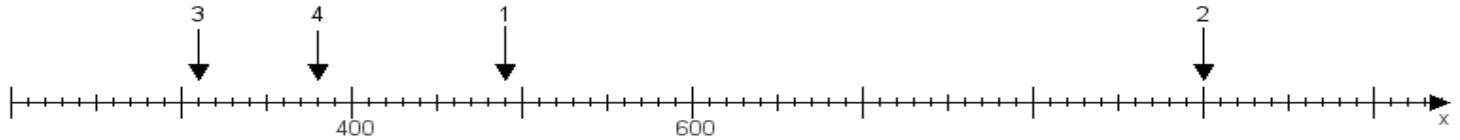
Name:

Klasse:

Datum:

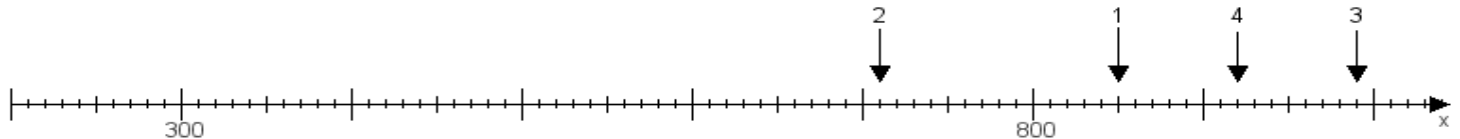
Aufgabe 1:

Ermittle die Werte von den Punkten 1 bis 4.



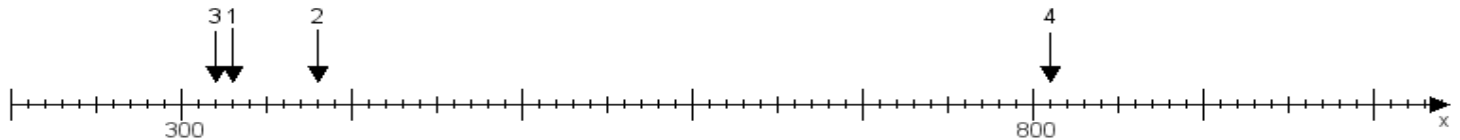
Aufgabe 2:

Ermittle die Werte von den Punkten 1 bis 4.



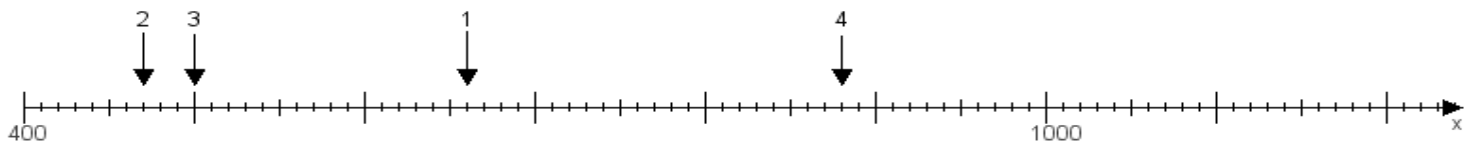
Aufgabe 3:

Ermittle die Werte von den Punkten 1 bis 4.



Aufgabe 4:

Ermittle die Werte von den Punkten 1 bis 4.



www.das-bastelteam.de -> Zahlenstrahl mit 4 Punkten. Blatt Nr.:392
Lösungen:

Aufgabe 1: Punkt 1 = 490, Punkt 2 = 900, Punkt 3 = 310, Punkt 4 = 380,

Aufgabe 2: Punkt 1 = 850, Punkt 2 = 710, Punkt 3 = 990, Punkt 4 = 920,

Aufgabe 3: Punkt 1 = 330, Punkt 2 = 380, Punkt 3 = 320, Punkt 4 = 810,

Aufgabe 4: Punkt 1 = 660, Punkt 2 = 470, Punkt 3 = 500, Punkt 4 = 880,