

Im Zahlenbereich bis max. 1000.

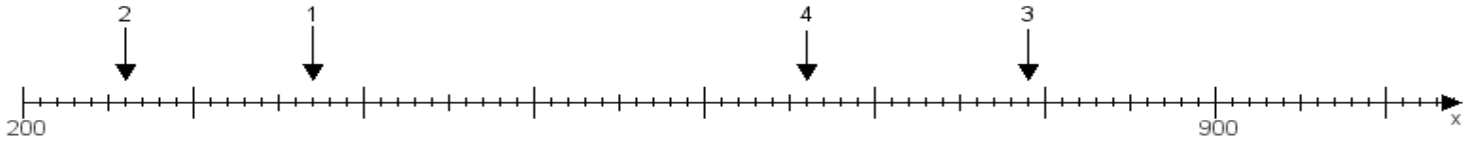
Name:

Klasse:

Datum:

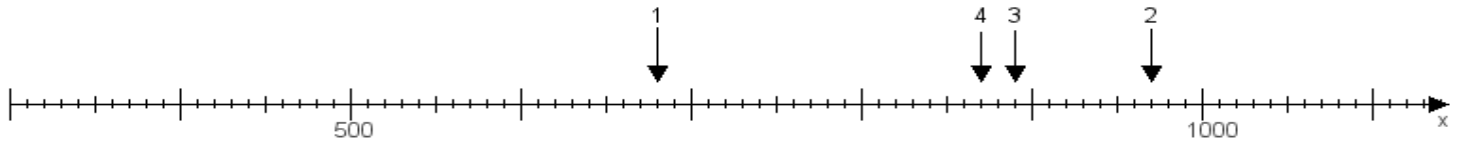
Aufgabe 1:

Ermittle die Werte von den Punkten 1 bis 4.



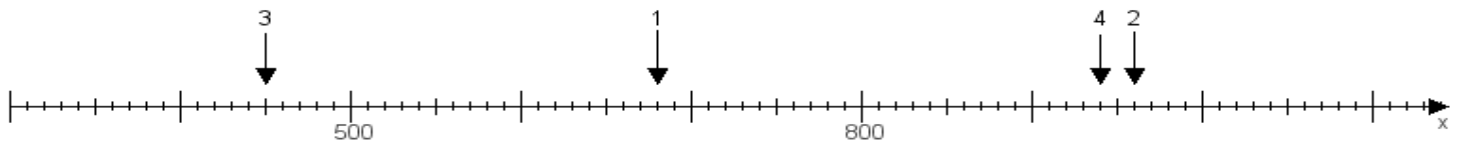
Aufgabe 2:

Ermittle die Werte von den Punkten 1 bis 4.



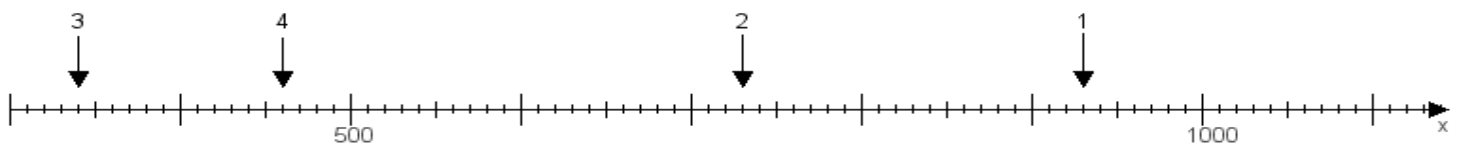
Aufgabe 3:

Ermittle die Werte von den Punkten 1 bis 4.



Aufgabe 4:

Ermittle die Werte von den Punkten 1 bis 4.



www.das-bastelteam.de -> Zahlenstrahl mit 4 Punkten. Blatt Nr.:38
Lösungen:

Aufgabe 1: Punkt 1 = 370, Punkt 2 = 260, Punkt 3 = 790, Punkt 4 = 660,

Aufgabe 2: Punkt 1 = 680, Punkt 2 = 970, Punkt 3 = 890, Punkt 4 = 870,

Aufgabe 3: Punkt 1 = 680, Punkt 2 = 960, Punkt 3 = 450, Punkt 4 = 940,

Aufgabe 4: Punkt 1 = 930, Punkt 2 = 730, Punkt 3 = 340, Punkt 4 = 460,

www.bin-dann-weg.de -> Ferienwohnungen und Ferienhäuser.

www.kleinanzeigen-und-annoncen.de -> Kostenlose Kleinanzeigen deutschlandweit.