

Im Zahlenbereich bis max. 1000.

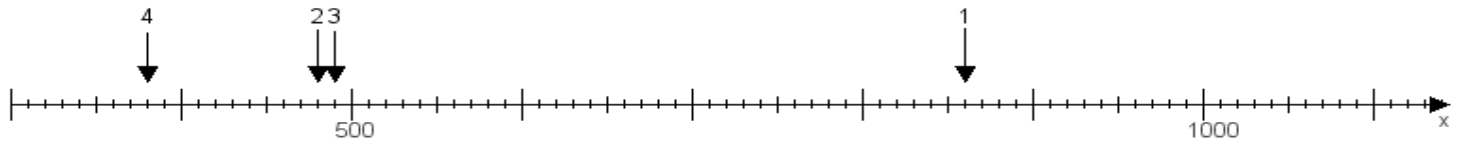
Name:

Klasse:

Datum:

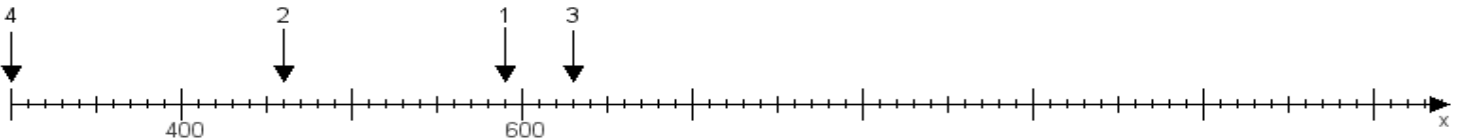
**Aufgabe 1:**

Ermittle die Werte von den Punkten 1 bis 4.



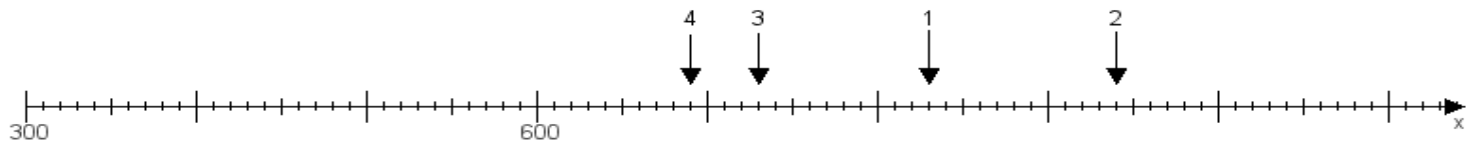
**Aufgabe 2:**

Ermittle die Werte von den Punkten 1 bis 4.



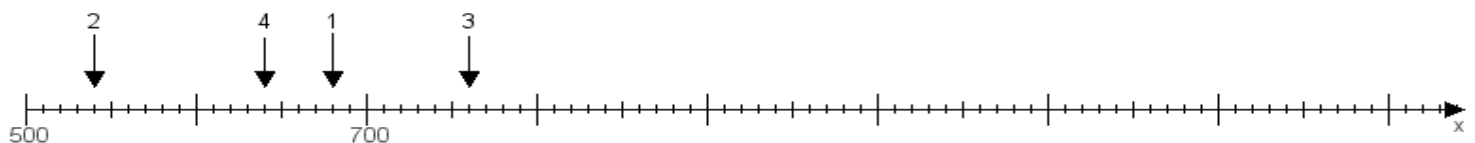
**Aufgabe 3:**

Ermittle die Werte von den Punkten 1 bis 4.



**Aufgabe 4:**

Ermittle die Werte von den Punkten 1 bis 4.



[www.das-bastelteam.de](http://www.das-bastelteam.de) -> Zahlenstrahl mit 4 Punkten. Blatt Nr.:388  
Lösungen:

Aufgabe 1: Punkt 1 = 860, Punkt 2 = 480, Punkt 3 = 490, Punkt 4 = 380,

Aufgabe 2: Punkt 1 = 590, Punkt 2 = 460, Punkt 3 = 630, Punkt 4 = 300,

Aufgabe 3: Punkt 1 = 830, Punkt 2 = 940, Punkt 3 = 730, Punkt 4 = 690,

Aufgabe 4: Punkt 1 = 680, Punkt 2 = 540, Punkt 3 = 760, Punkt 4 = 640,