

Im Zahlenbereich bis max. 1000.

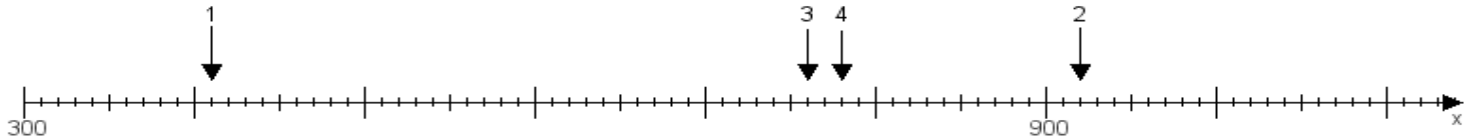
Name:

Klasse:

Datum:

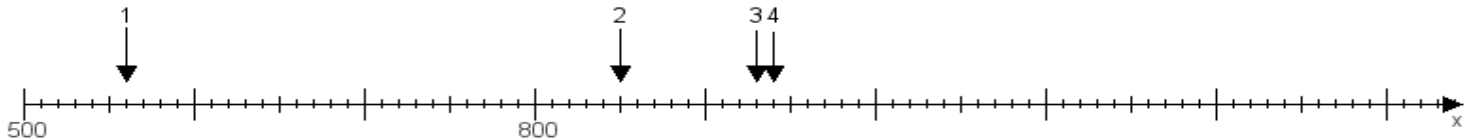
Aufgabe 1:

Ermittle die Werte von den Punkten 1 bis 4.



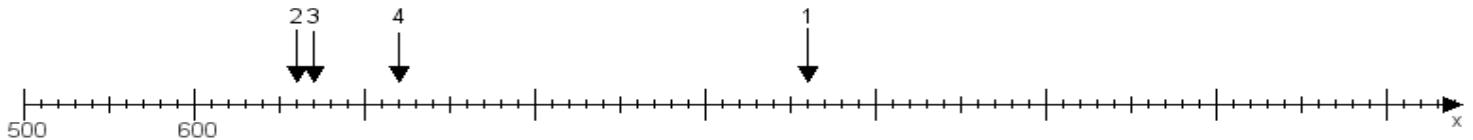
Aufgabe 2:

Ermittle die Werte von den Punkten 1 bis 4.



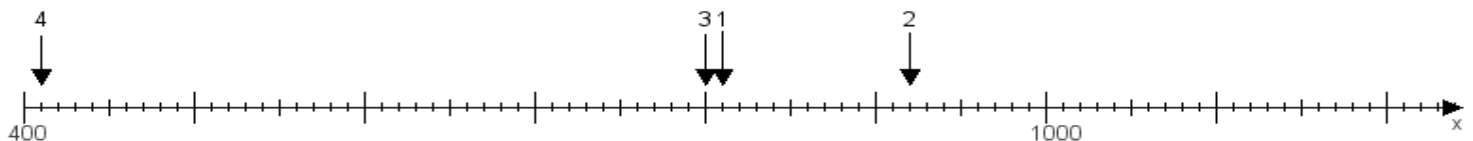
Aufgabe 3:

Ermittle die Werte von den Punkten 1 bis 4.



Aufgabe 4:

Ermittle die Werte von den Punkten 1 bis 4.



www.das-bastelteam.de -> Zahlenstrahl mit 4 Punkten. Blatt Nr.:386
Lösungen:

Aufgabe 1: Punkt 1 = 410, Punkt 2 = 920, Punkt 3 = 760, Punkt 4 = 780,

Aufgabe 2: Punkt 1 = 560, Punkt 2 = 850, Punkt 3 = 930, Punkt 4 = 940,

Aufgabe 3: Punkt 1 = 960, Punkt 2 = 660, Punkt 3 = 670, Punkt 4 = 720,

Aufgabe 4: Punkt 1 = 810, Punkt 2 = 920, Punkt 3 = 800, Punkt 4 = 410,