

Im Zahlenbereich bis max. 1000.

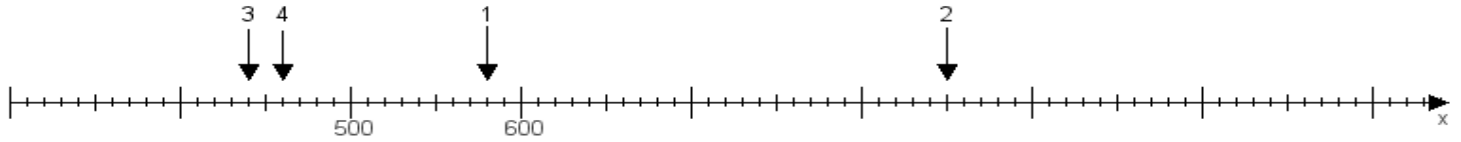
Name:

Klasse:

Datum:

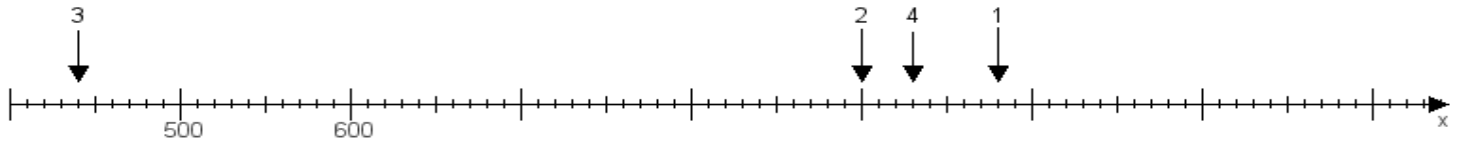
Aufgabe 1:

Ermittle die Werte von den Punkten 1 bis 4.



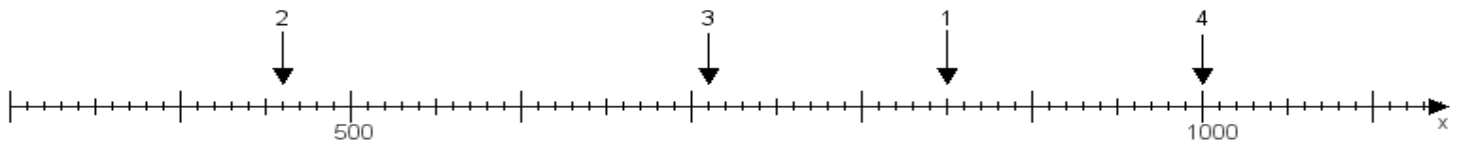
Aufgabe 2:

Ermittle die Werte von den Punkten 1 bis 4.



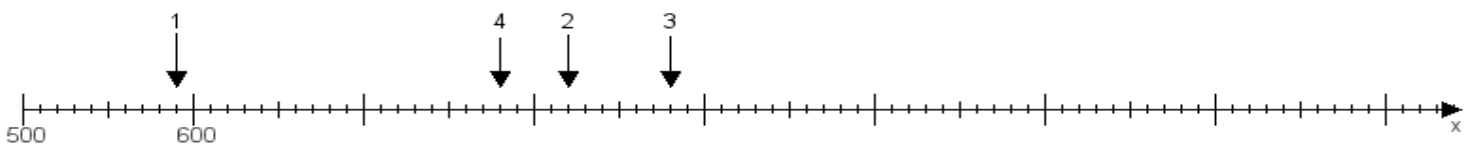
Aufgabe 3:

Ermittle die Werte von den Punkten 1 bis 4.



Aufgabe 4:

Ermittle die Werte von den Punkten 1 bis 4.



www.das-bastelteam.de -> Zahlenstrahl mit 4 Punkten. Blatt Nr.:385
Lösungen:

Aufgabe 1: Punkt 1 = 580, Punkt 2 = 850, Punkt 3 = 440, Punkt 4 = 460,

Aufgabe 2: Punkt 1 = 980, Punkt 2 = 900, Punkt 3 = 440, Punkt 4 = 930,

Aufgabe 3: Punkt 1 = 850, Punkt 2 = 460, Punkt 3 = 710, Punkt 4 = 1000,

Aufgabe 4: Punkt 1 = 590, Punkt 2 = 820, Punkt 3 = 880, Punkt 4 = 780,