

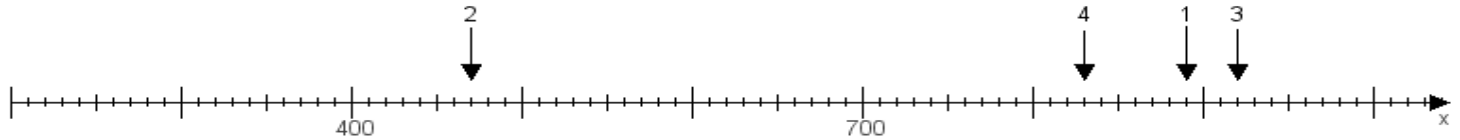
Name:

Klasse:

Datum:

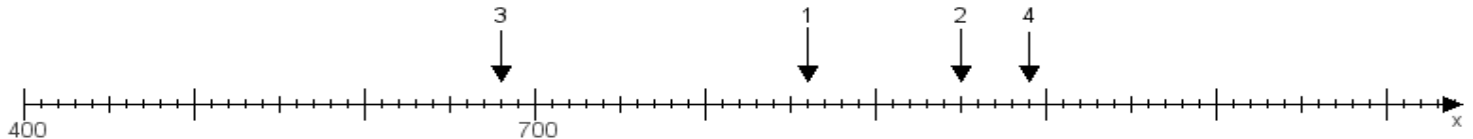
Aufgabe 1:

Ermittle die Werte von den Punkten 1 bis 4.



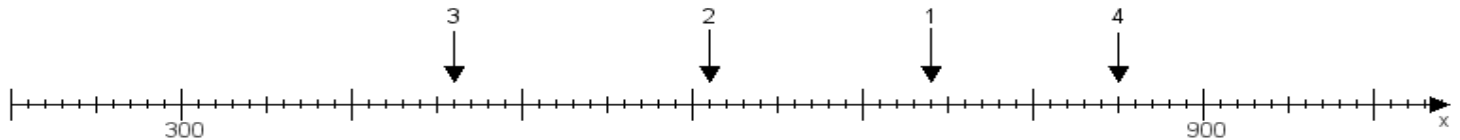
Aufgabe 2:

Ermittle die Werte von den Punkten 1 bis 4.



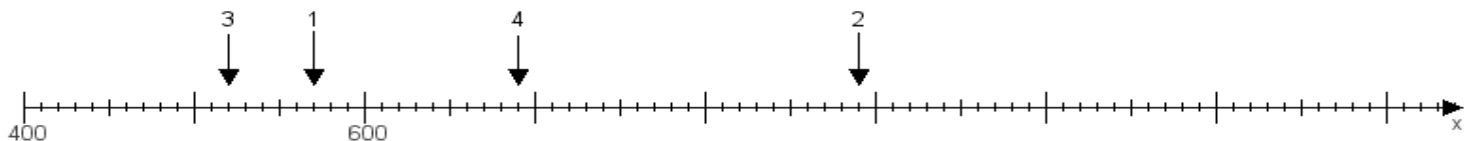
Aufgabe 3:

Ermittle die Werte von den Punkten 1 bis 4.



Aufgabe 4:

Ermittle die Werte von den Punkten 1 bis 4.



www.das-bastelteam.de -> Zahlenstrahl mit 4 Punkten. Blatt Nr.:383
Lösungen:

Aufgabe 1: Punkt 1 = 890, Punkt 2 = 470, Punkt 3 = 920, Punkt 4 = 830,

Aufgabe 2: Punkt 1 = 860, Punkt 2 = 950, Punkt 3 = 680, Punkt 4 = 990,

Aufgabe 3: Punkt 1 = 740, Punkt 2 = 610, Punkt 3 = 460, Punkt 4 = 850,

Aufgabe 4: Punkt 1 = 570, Punkt 2 = 890, Punkt 3 = 520, Punkt 4 = 690,