

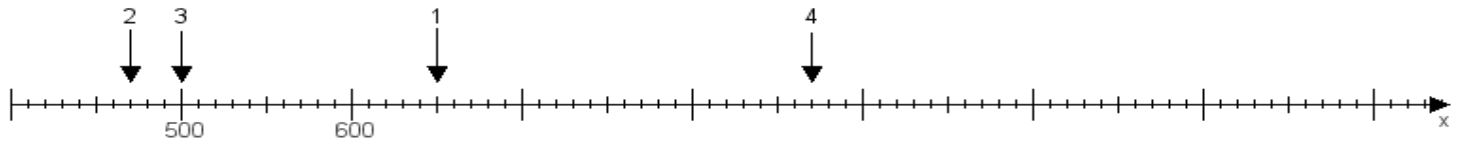
Name:

Klasse:

Datum:

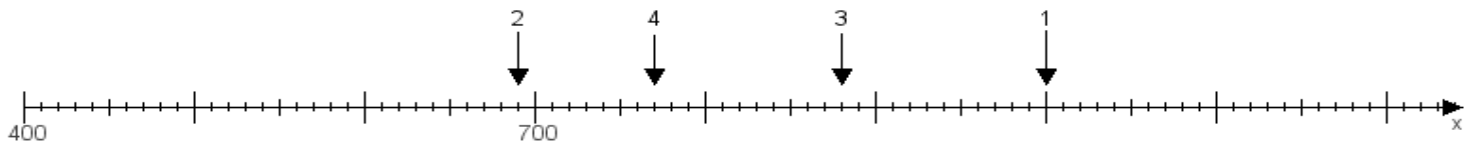
Aufgabe 1:

Ermittle die Werte von den Punkten 1 bis 4.



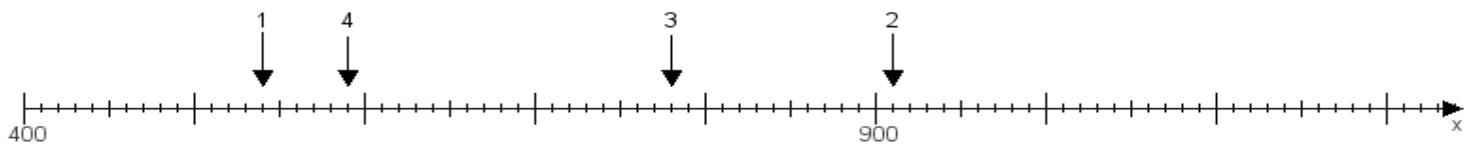
Aufgabe 2:

Ermittle die Werte von den Punkten 1 bis 4.



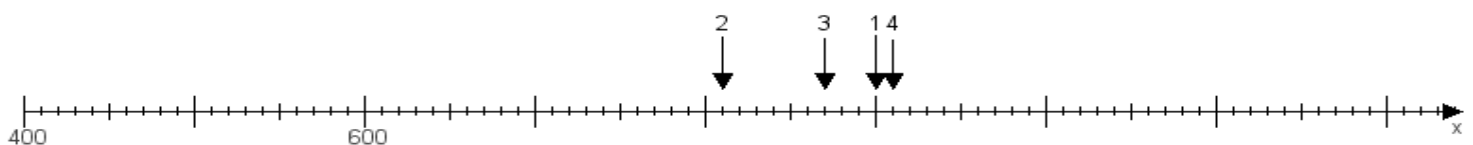
Aufgabe 3:

Ermittle die Werte von den Punkten 1 bis 4.



Aufgabe 4:

Ermittle die Werte von den Punkten 1 bis 4.



www.das-bastelteam.de -> Zahlenstrahl mit 4 Punkten. Blatt Nr.:377
Lösungen:

Aufgabe 1: Punkt 1 = 650, Punkt 2 = 470, Punkt 3 = 500, Punkt 4 = 870,

Aufgabe 2: Punkt 1 = 1000, Punkt 2 = 690, Punkt 3 = 880, Punkt 4 = 770,

Aufgabe 3: Punkt 1 = 540, Punkt 2 = 910, Punkt 3 = 780, Punkt 4 = 590,

Aufgabe 4: Punkt 1 = 900, Punkt 2 = 810, Punkt 3 = 870, Punkt 4 = 910,