

Im Zahlenbereich bis max. 1000.

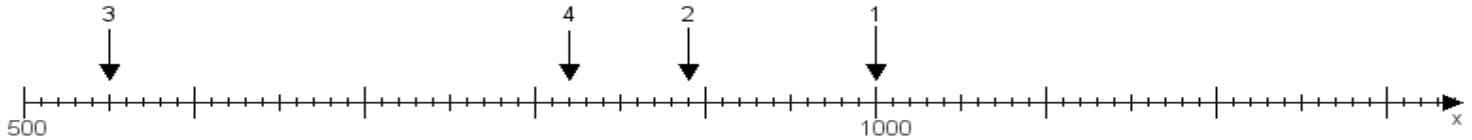
Name:

Klasse:

Datum:

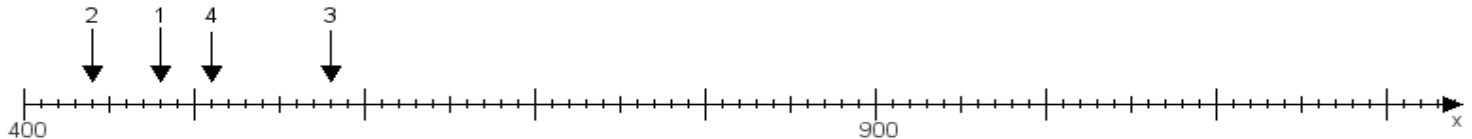
**Aufgabe 1:**

Ermittle die Werte von den Punkten 1 bis 4.



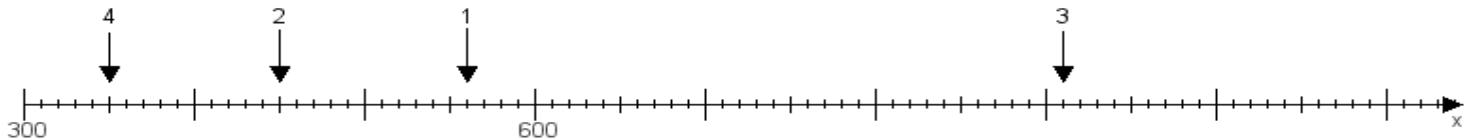
**Aufgabe 2:**

Ermittle die Werte von den Punkten 1 bis 4.



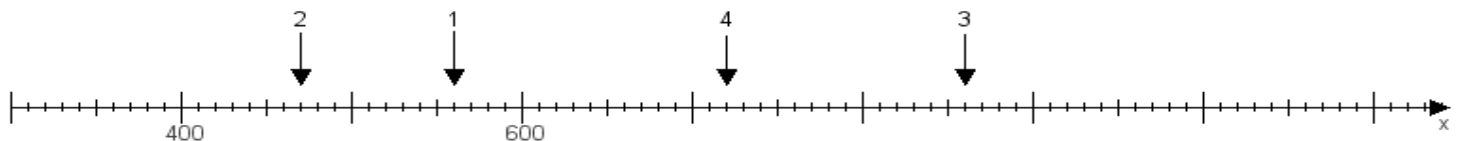
**Aufgabe 3:**

Ermittle die Werte von den Punkten 1 bis 4.



**Aufgabe 4:**

Ermittle die Werte von den Punkten 1 bis 4.



[www.das-bastelteam.de](http://www.das-bastelteam.de) -> Zahlenstrahl mit 4 Punkten. Blatt Nr.:376  
Lösungen:

Aufgabe 1: Punkt 1 = 1000, Punkt 2 = 890, Punkt 3 = 550, Punkt 4 = 820,

Aufgabe 2: Punkt 1 = 480, Punkt 2 = 440, Punkt 3 = 580, Punkt 4 = 510,

Aufgabe 3: Punkt 1 = 560, Punkt 2 = 450, Punkt 3 = 910, Punkt 4 = 350,

Aufgabe 4: Punkt 1 = 560, Punkt 2 = 470, Punkt 3 = 860, Punkt 4 = 720,