

Im Zahlenbereich bis max. 1000.

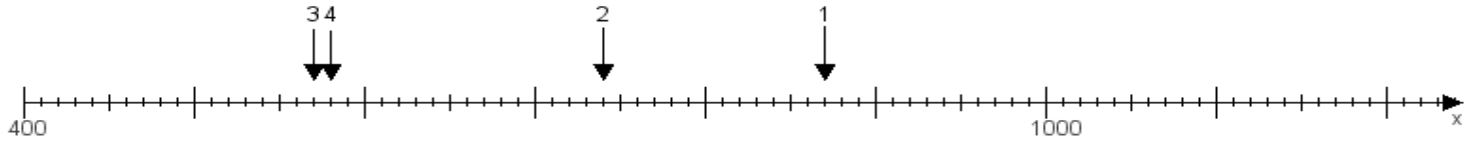
Name:

Klasse:

Datum:

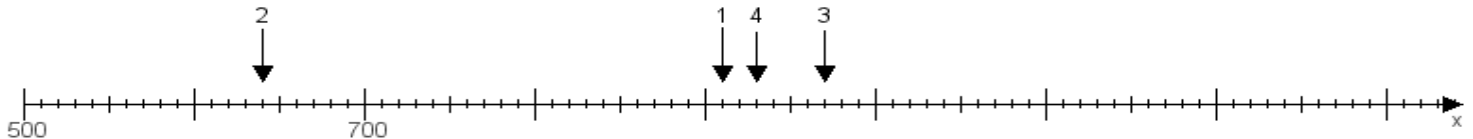
**Aufgabe 1:**

Ermittle die Werte von den Punkten 1 bis 4.



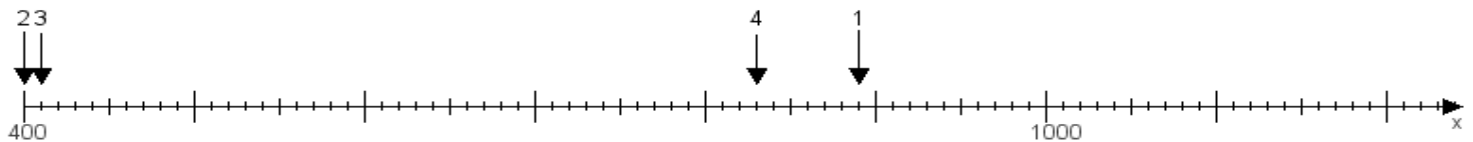
**Aufgabe 2:**

Ermittle die Werte von den Punkten 1 bis 4.



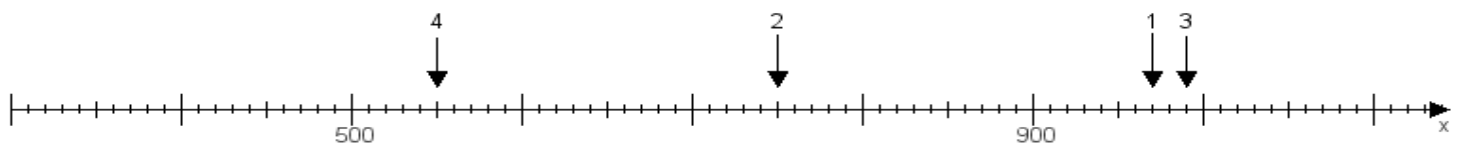
**Aufgabe 3:**

Ermittle die Werte von den Punkten 1 bis 4.



**Aufgabe 4:**

Ermittle die Werte von den Punkten 1 bis 4.



[www.das-bastelteam.de](http://www.das-bastelteam.de) -> Zahlenstrahl mit 4 Punkten. Blatt Nr.:374  
Lösungen:

Aufgabe 1: Punkt 1 = 870, Punkt 2 = 740, Punkt 3 = 570, Punkt 4 = 580,

Aufgabe 2: Punkt 1 = 910, Punkt 2 = 640, Punkt 3 = 970, Punkt 4 = 930,

Aufgabe 3: Punkt 1 = 890, Punkt 2 = 400, Punkt 3 = 410, Punkt 4 = 830,

Aufgabe 4: Punkt 1 = 970, Punkt 2 = 750, Punkt 3 = 990, Punkt 4 = 550,