

Im Zahlenbereich bis max. 1000.

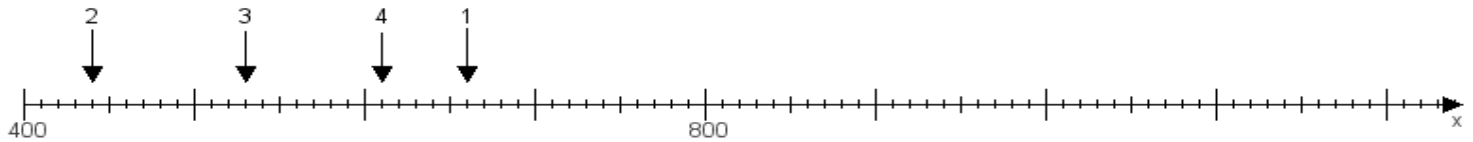
Name:

Klasse:

Datum:

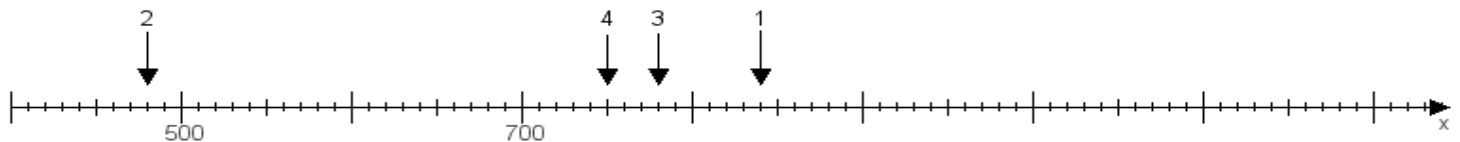
**Aufgabe 1:**

Ermittle die Werte von den Punkten 1 bis 4.



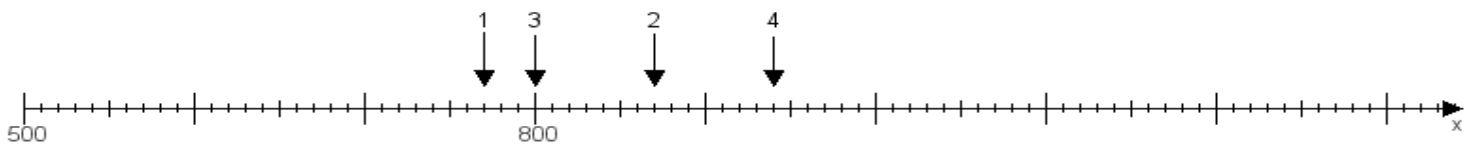
**Aufgabe 2:**

Ermittle die Werte von den Punkten 1 bis 4.



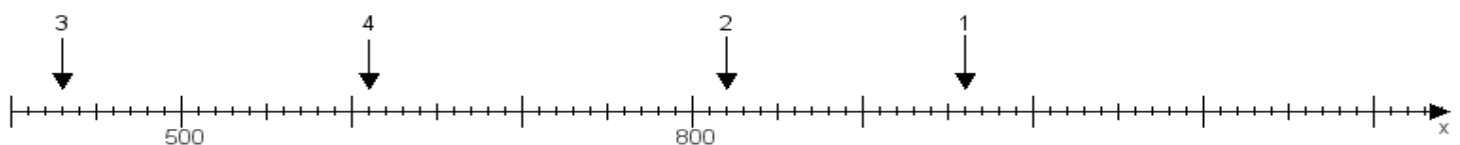
**Aufgabe 3:**

Ermittle die Werte von den Punkten 1 bis 4.



**Aufgabe 4:**

Ermittle die Werte von den Punkten 1 bis 4.



[www.das-bastelteam.de](http://www.das-bastelteam.de) -> Zahlenstrahl mit 4 Punkten. Blatt Nr.:373  
Lösungen:

Aufgabe 1: Punkt 1 = 660, Punkt 2 = 440, Punkt 3 = 530, Punkt 4 = 610,

Aufgabe 2: Punkt 1 = 840, Punkt 2 = 480, Punkt 3 = 780, Punkt 4 = 750,

Aufgabe 3: Punkt 1 = 770, Punkt 2 = 870, Punkt 3 = 800, Punkt 4 = 940,

Aufgabe 4: Punkt 1 = 960, Punkt 2 = 820, Punkt 3 = 430, Punkt 4 = 610,