

Im Zahlenbereich bis max. 1000.

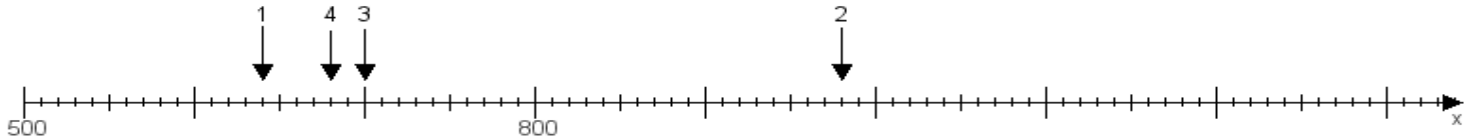
Name:

Klasse:

Datum:

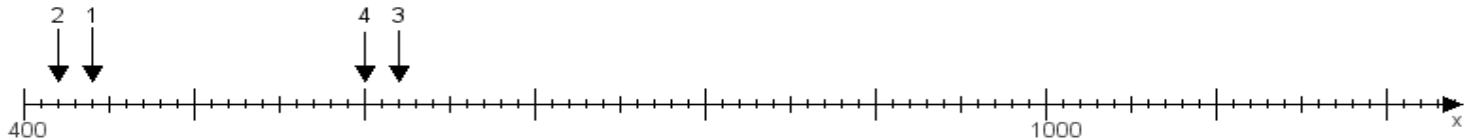
Aufgabe 1:

Ermittle die Werte von den Punkten 1 bis 4.



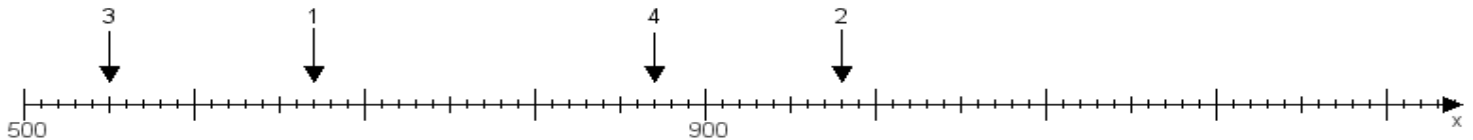
Aufgabe 2:

Ermittle die Werte von den Punkten 1 bis 4.



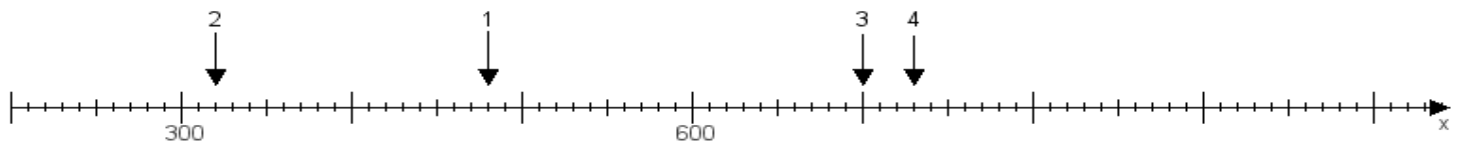
Aufgabe 3:

Ermittle die Werte von den Punkten 1 bis 4.



Aufgabe 4:

Ermittle die Werte von den Punkten 1 bis 4.



www.das-bastelteam.de -> Zahlenstrahl mit 4 Punkten. Blatt Nr.:372
Lösungen:

Aufgabe 1: Punkt 1 = 640, Punkt 2 = 980, Punkt 3 = 700, Punkt 4 = 680,

Aufgabe 2: Punkt 1 = 440, Punkt 2 = 420, Punkt 3 = 620, Punkt 4 = 600,

Aufgabe 3: Punkt 1 = 670, Punkt 2 = 980, Punkt 3 = 550, Punkt 4 = 870,

Aufgabe 4: Punkt 1 = 480, Punkt 2 = 320, Punkt 3 = 700, Punkt 4 = 730,