

Im Zahlenbereich bis max. 1000.

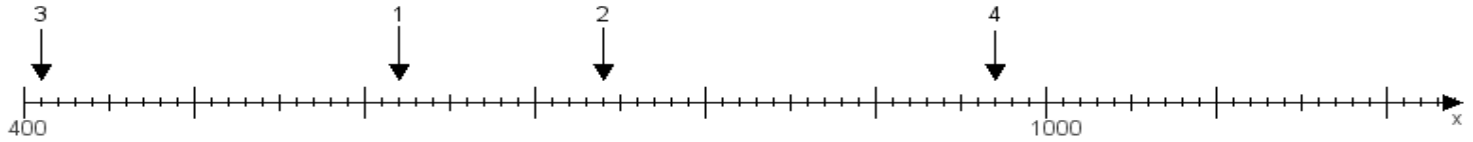
Name:

Klasse:

Datum:

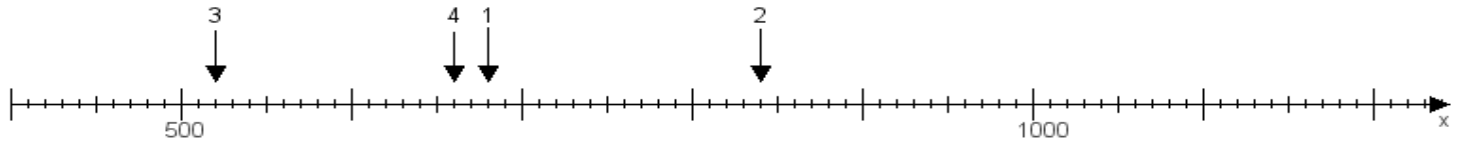
Aufgabe 1:

Ermittle die Werte von den Punkten 1 bis 4.



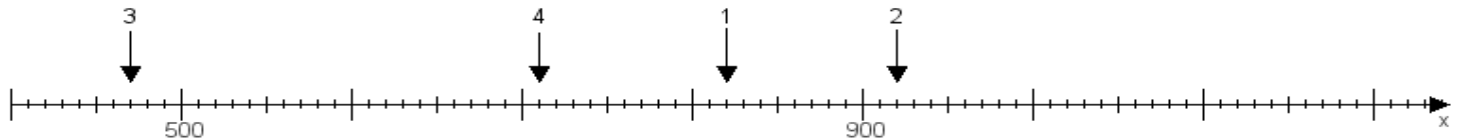
Aufgabe 2:

Ermittle die Werte von den Punkten 1 bis 4.



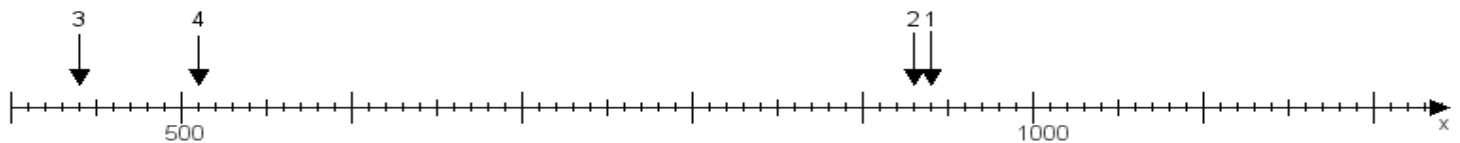
Aufgabe 3:

Ermittle die Werte von den Punkten 1 bis 4.



Aufgabe 4:

Ermittle die Werte von den Punkten 1 bis 4.



www.das-bastelteam.de -> Zahlenstrahl mit 4 Punkten. Blatt Nr.:371
Lösungen:

Aufgabe 1: Punkt 1 = 620, Punkt 2 = 740, Punkt 3 = 410, Punkt 4 = 970,

Aufgabe 2: Punkt 1 = 680, Punkt 2 = 840, Punkt 3 = 520, Punkt 4 = 660,

Aufgabe 3: Punkt 1 = 820, Punkt 2 = 920, Punkt 3 = 470, Punkt 4 = 710,

Aufgabe 4: Punkt 1 = 940, Punkt 2 = 930, Punkt 3 = 440, Punkt 4 = 510,