

Im Zahlenbereich bis max. 1000.

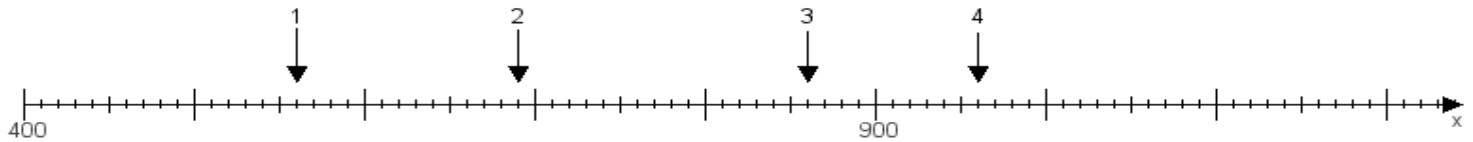
Name:

Klasse:

Datum:

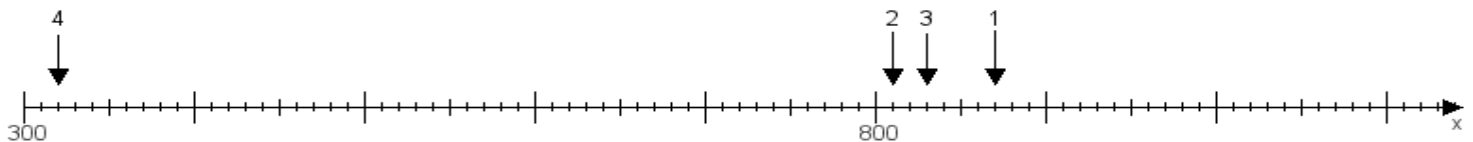
Aufgabe 1:

Ermittle die Werte von den Punkten 1 bis 4.



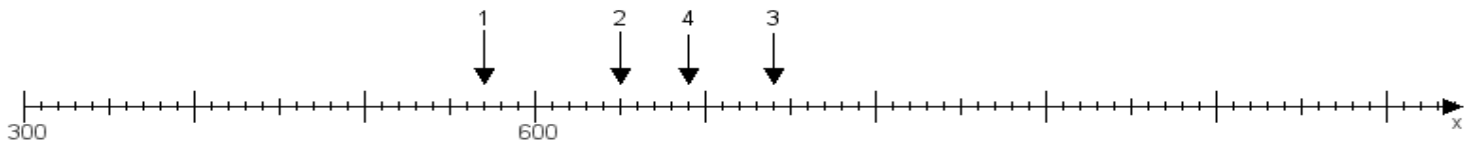
Aufgabe 2:

Ermittle die Werte von den Punkten 1 bis 4.



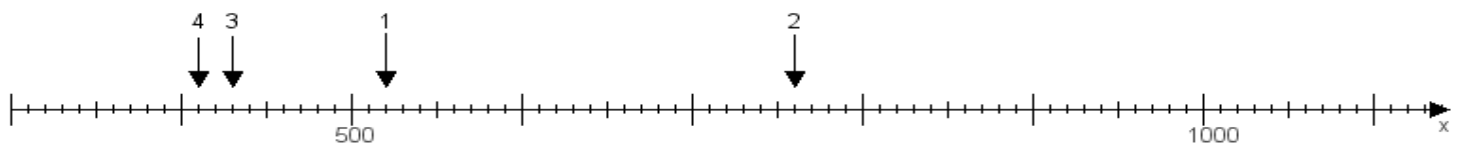
Aufgabe 3:

Ermittle die Werte von den Punkten 1 bis 4.



Aufgabe 4:

Ermittle die Werte von den Punkten 1 bis 4.



www.das-bastelteam.de -> Zahlenstrahl mit 4 Punkten. Blatt Nr.:36
Lösungen:

Aufgabe 1: Punkt 1 = 560, Punkt 2 = 690, Punkt 3 = 860, Punkt 4 = 960,

Aufgabe 2: Punkt 1 = 870, Punkt 2 = 810, Punkt 3 = 830, Punkt 4 = 320,

Aufgabe 3: Punkt 1 = 570, Punkt 2 = 650, Punkt 3 = 740, Punkt 4 = 690,

Aufgabe 4: Punkt 1 = 520, Punkt 2 = 760, Punkt 3 = 430, Punkt 4 = 410,