

Im Zahlenbereich bis max. 1000.

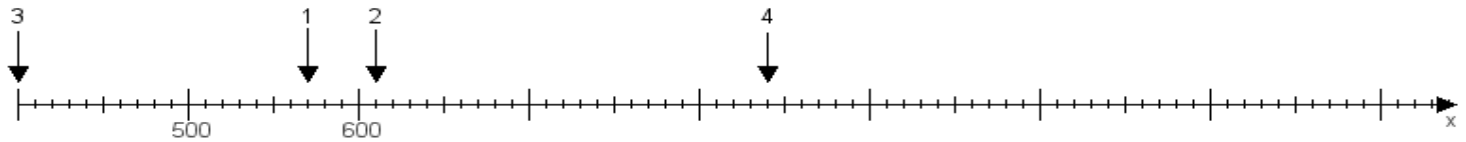
Name:

Klasse:

Datum:

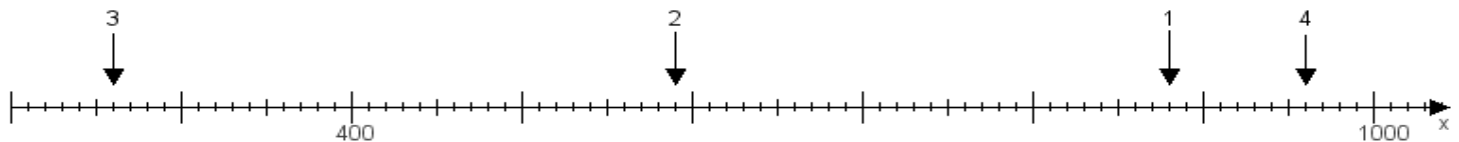
**Aufgabe 1:**

Ermittle die Werte von den Punkten 1 bis 4.



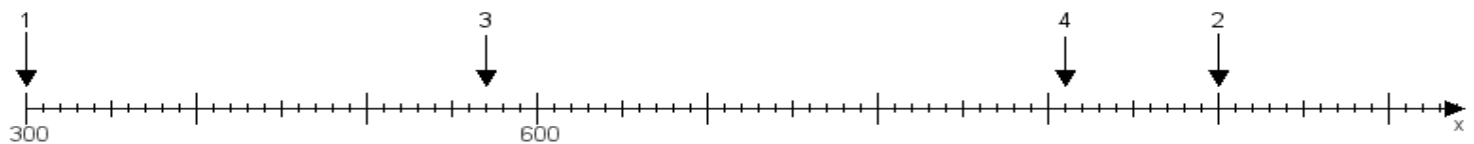
**Aufgabe 2:**

Ermittle die Werte von den Punkten 1 bis 4.



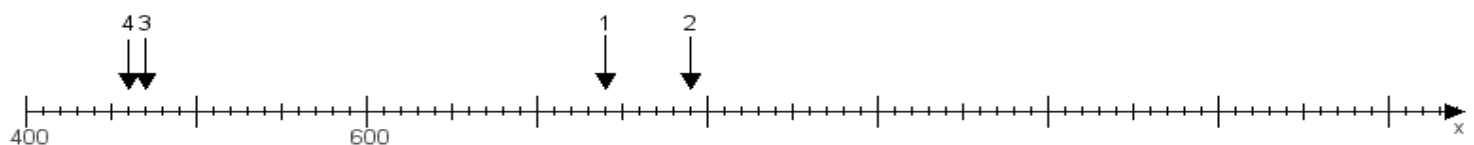
**Aufgabe 3:**

Ermittle die Werte von den Punkten 1 bis 4.



**Aufgabe 4:**

Ermittle die Werte von den Punkten 1 bis 4.



[www.das-bastelteam.de](http://www.das-bastelteam.de) -> Zahlenstrahl mit 4 Punkten. Blatt Nr.:366  
Lösungen:

Aufgabe 1: Punkt 1 = 570, Punkt 2 = 610, Punkt 3 = 400, Punkt 4 = 840,

Aufgabe 2: Punkt 1 = 880, Punkt 2 = 590, Punkt 3 = 260, Punkt 4 = 960,

Aufgabe 3: Punkt 1 = 300, Punkt 2 = 1000, Punkt 3 = 570, Punkt 4 = 910,

Aufgabe 4: Punkt 1 = 740, Punkt 2 = 790, Punkt 3 = 470, Punkt 4 = 460,