

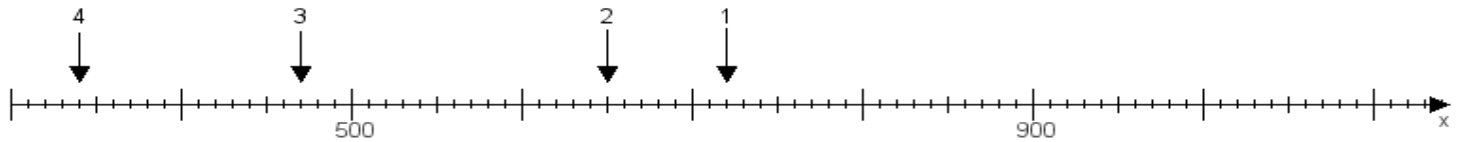
Name:

Klasse:

Datum:

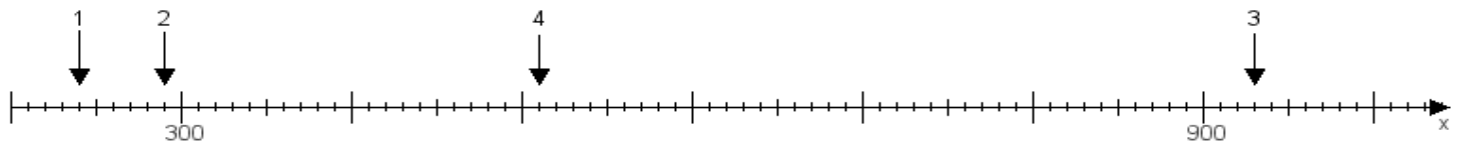
Aufgabe 1:

Ermittle die Werte von den Punkten 1 bis 4.



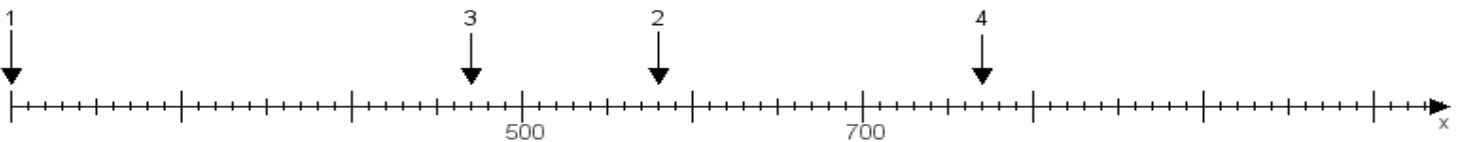
Aufgabe 2:

Ermittle die Werte von den Punkten 1 bis 4.



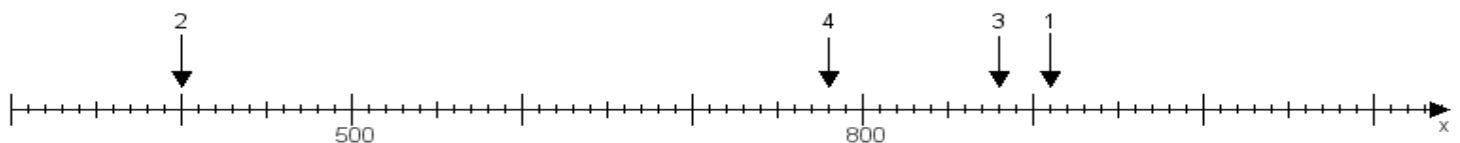
Aufgabe 3:

Ermittle die Werte von den Punkten 1 bis 4.



Aufgabe 4:

Ermittle die Werte von den Punkten 1 bis 4.



www.das-bastelteam.de -> Zahlenstrahl mit 4 Punkten. Blatt Nr.:364
Lösungen:

Aufgabe 1: Punkt 1 = 720, Punkt 2 = 650, Punkt 3 = 470, Punkt 4 = 340,

Aufgabe 2: Punkt 1 = 240, Punkt 2 = 290, Punkt 3 = 930, Punkt 4 = 510,

Aufgabe 3: Punkt 1 = 200, Punkt 2 = 580, Punkt 3 = 470, Punkt 4 = 770,

Aufgabe 4: Punkt 1 = 910, Punkt 2 = 400, Punkt 3 = 880, Punkt 4 = 780,