

Im Zahlenbereich bis max. 1000.

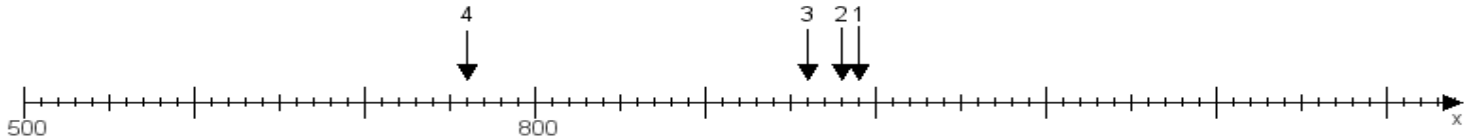
Name:

Klasse:

Datum:

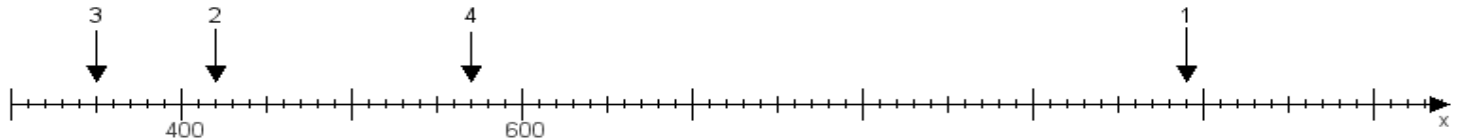
Aufgabe 1:

Ermittle die Werte von den Punkten 1 bis 4.



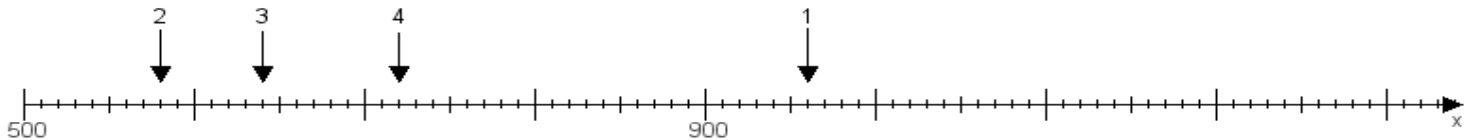
Aufgabe 2:

Ermittle die Werte von den Punkten 1 bis 4.



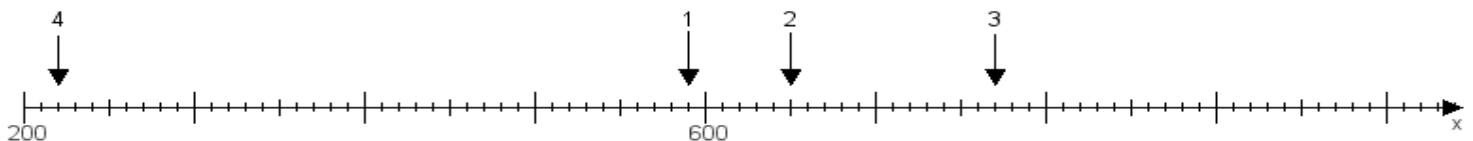
Aufgabe 3:

Ermittle die Werte von den Punkten 1 bis 4.



Aufgabe 4:

Ermittle die Werte von den Punkten 1 bis 4.



www.das-bastelteam.de -> Zahlenstrahl mit 4 Punkten. Blatt Nr.:361
Lösungen:

Aufgabe 1: Punkt 1 = 990, Punkt 2 = 980, Punkt 3 = 960, Punkt 4 = 760,

Aufgabe 2: Punkt 1 = 990, Punkt 2 = 420, Punkt 3 = 350, Punkt 4 = 570,

Aufgabe 3: Punkt 1 = 960, Punkt 2 = 580, Punkt 3 = 640, Punkt 4 = 720,

Aufgabe 4: Punkt 1 = 590, Punkt 2 = 650, Punkt 3 = 770, Punkt 4 = 220,