

Im Zahlenbereich bis max. 1000.

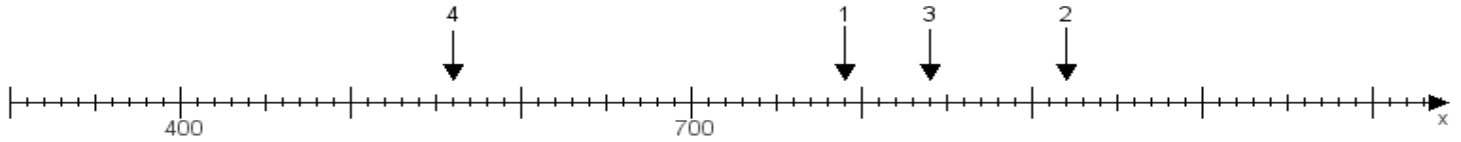
Name:

Klasse:

Datum:

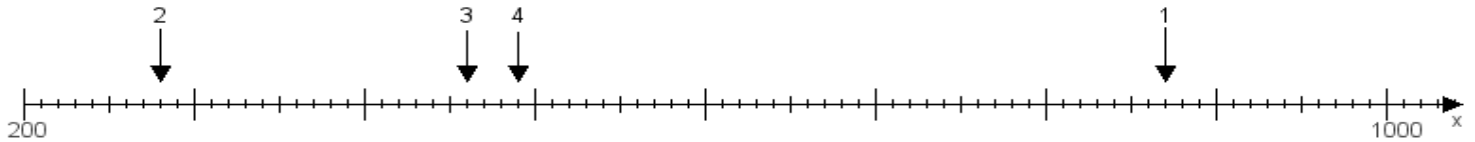
**Aufgabe 1:**

Ermittle die Werte von den Punkten 1 bis 4.



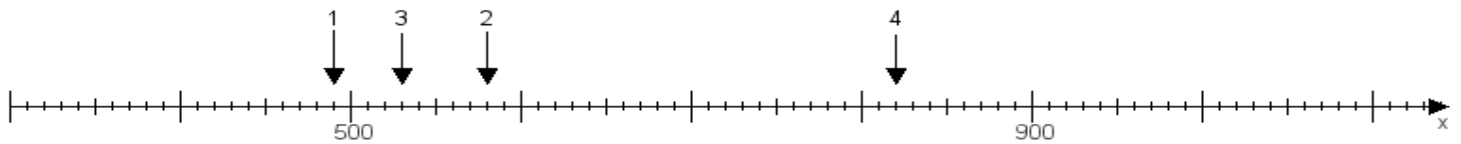
**Aufgabe 2:**

Ermittle die Werte von den Punkten 1 bis 4.



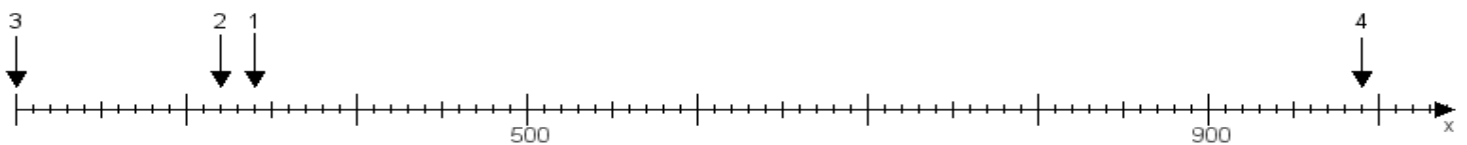
**Aufgabe 3:**

Ermittle die Werte von den Punkten 1 bis 4.



**Aufgabe 4:**

Ermittle die Werte von den Punkten 1 bis 4.



[www.das-bastelteam.de](http://www.das-bastelteam.de) -> Zahlenstrahl mit 4 Punkten. Blatt Nr.:35  
Lösungen:

Aufgabe 1: Punkt 1 = 790, Punkt 2 = 920, Punkt 3 = 840, Punkt 4 = 560,

Aufgabe 2: Punkt 1 = 870, Punkt 2 = 280, Punkt 3 = 460, Punkt 4 = 490,

Aufgabe 3: Punkt 1 = 490, Punkt 2 = 580, Punkt 3 = 530, Punkt 4 = 820,

Aufgabe 4: Punkt 1 = 340, Punkt 2 = 320, Punkt 3 = 200, Punkt 4 = 990,