

Im Zahlenbereich bis max. 1000.

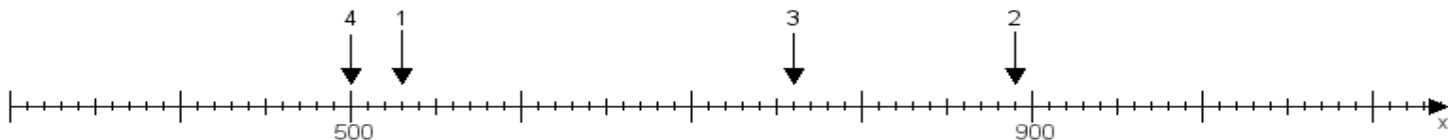
Name:

Klasse:

Datum:

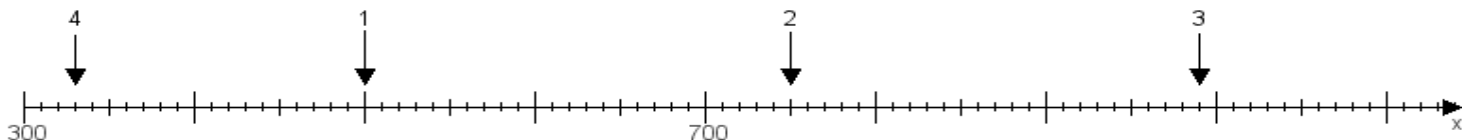
Aufgabe 1:

Ermittle die Werte von den Punkten 1 bis 4.



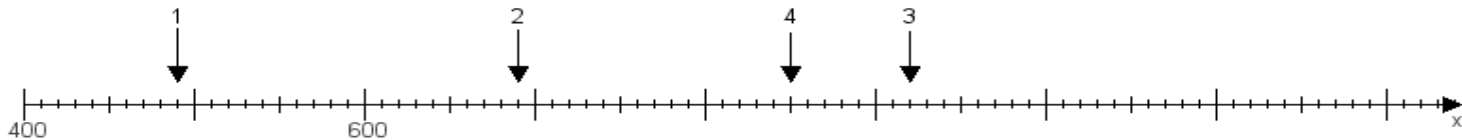
Aufgabe 2:

Ermittle die Werte von den Punkten 1 bis 4.



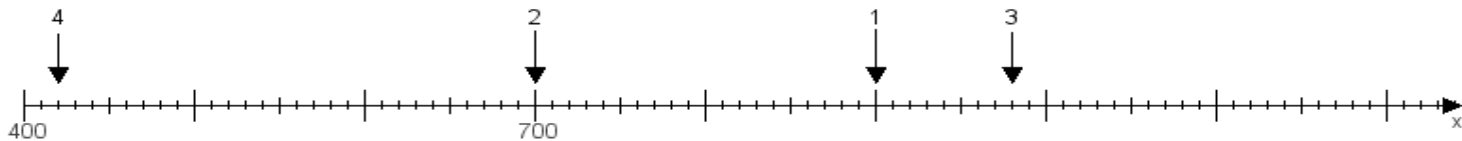
Aufgabe 3:

Ermittle die Werte von den Punkten 1 bis 4.



Aufgabe 4:

Ermittle die Werte von den Punkten 1 bis 4.



www.das-bastelteam.de -> Zahlenstrahl mit 4 Punkten. Blatt Nr.:357
Lösungen:

Aufgabe 1: Punkt 1 = 530, Punkt 2 = 890, Punkt 3 = 760, Punkt 4 = 500,

Aufgabe 2: Punkt 1 = 500, Punkt 2 = 750, Punkt 3 = 990, Punkt 4 = 330,

Aufgabe 3: Punkt 1 = 490, Punkt 2 = 690, Punkt 3 = 920, Punkt 4 = 850,

Aufgabe 4: Punkt 1 = 900, Punkt 2 = 700, Punkt 3 = 980, Punkt 4 = 420,