

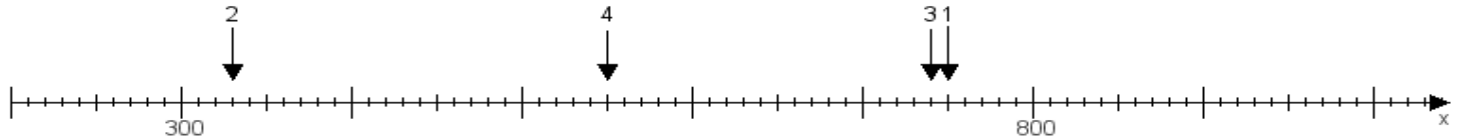
Name:

Klasse:

Datum:

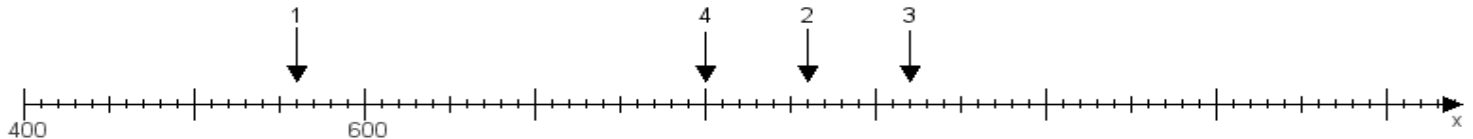
Aufgabe 1:

Ermittle die Werte von den Punkten 1 bis 4.



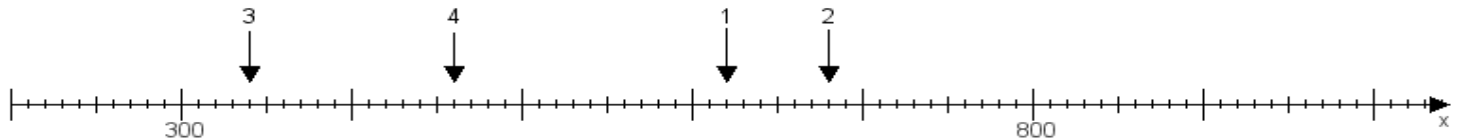
Aufgabe 2:

Ermittle die Werte von den Punkten 1 bis 4.



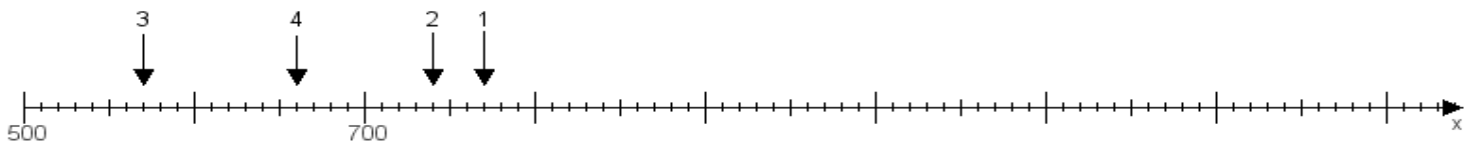
Aufgabe 3:

Ermittle die Werte von den Punkten 1 bis 4.



Aufgabe 4:

Ermittle die Werte von den Punkten 1 bis 4.



www.das-bastelteam.de -> Zahlenstrahl mit 4 Punkten. Blatt Nr.:353
Lösungen:

Aufgabe 1: Punkt 1 = 750, Punkt 2 = 330, Punkt 3 = 740, Punkt 4 = 550,

Aufgabe 2: Punkt 1 = 560, Punkt 2 = 860, Punkt 3 = 920, Punkt 4 = 800,

Aufgabe 3: Punkt 1 = 620, Punkt 2 = 680, Punkt 3 = 340, Punkt 4 = 460,

Aufgabe 4: Punkt 1 = 770, Punkt 2 = 740, Punkt 3 = 570, Punkt 4 = 660,