

Im Zahlenbereich bis max. 1000.

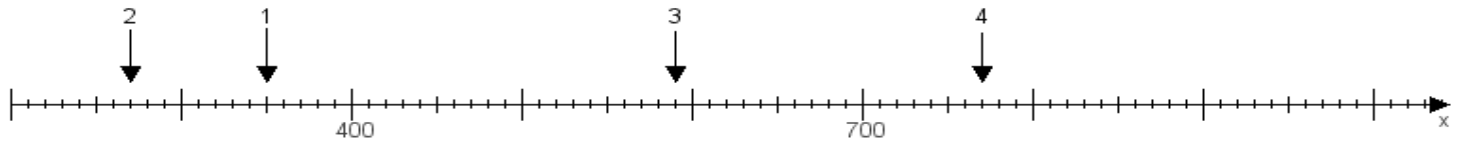
Name:

Klasse:

Datum:

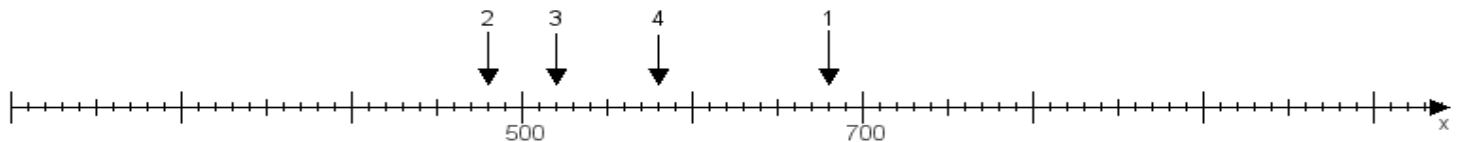
Aufgabe 1:

Ermittle die Werte von den Punkten 1 bis 4.



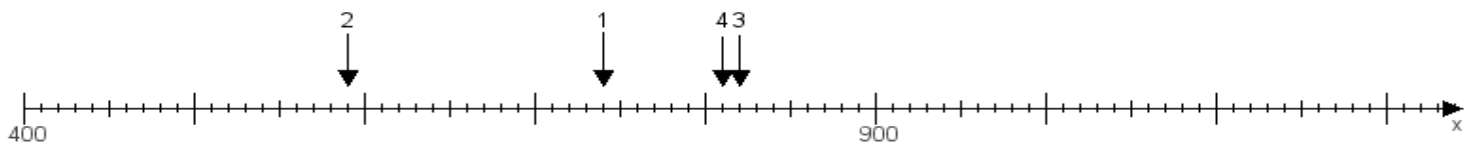
Aufgabe 2:

Ermittle die Werte von den Punkten 1 bis 4.



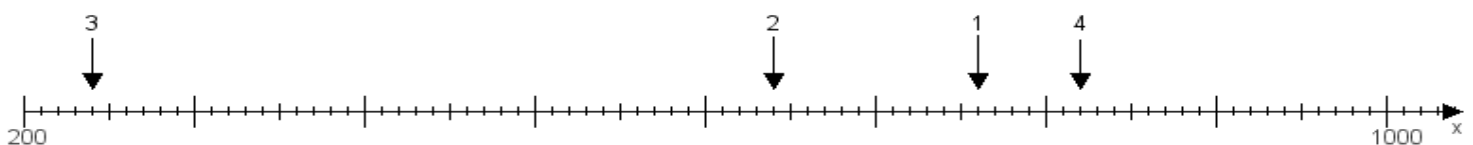
Aufgabe 3:

Ermittle die Werte von den Punkten 1 bis 4.



Aufgabe 4:

Ermittle die Werte von den Punkten 1 bis 4.



www.das-bastelteam.de -> Zahlenstrahl mit 4 Punkten. Blatt Nr.:351
Lösungen:

Aufgabe 1: Punkt 1 = 350, Punkt 2 = 270, Punkt 3 = 590, Punkt 4 = 770,

Aufgabe 2: Punkt 1 = 680, Punkt 2 = 480, Punkt 3 = 520, Punkt 4 = 580,

Aufgabe 3: Punkt 1 = 740, Punkt 2 = 590, Punkt 3 = 820, Punkt 4 = 810,

Aufgabe 4: Punkt 1 = 760, Punkt 2 = 640, Punkt 3 = 240, Punkt 4 = 820,