

Im Zahlenbereich bis max. 1000.

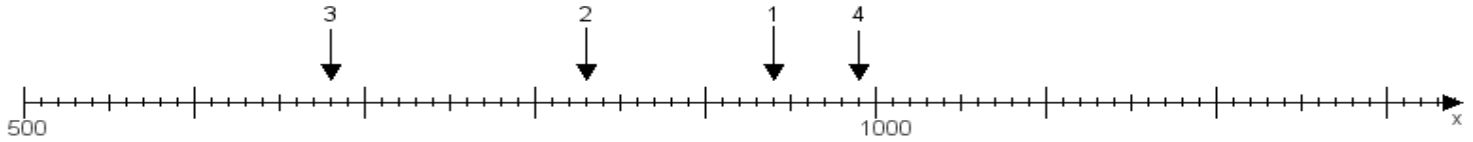
Name:

Klasse:

Datum:

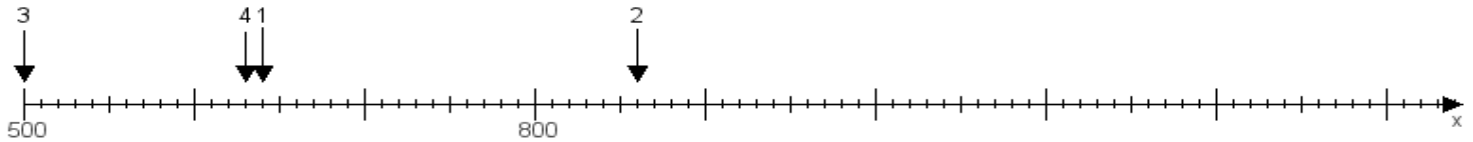
Aufgabe 1:

Ermittle die Werte von den Punkten 1 bis 4.



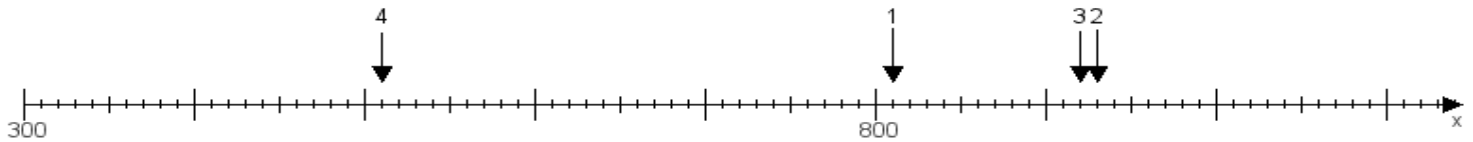
Aufgabe 2:

Ermittle die Werte von den Punkten 1 bis 4.



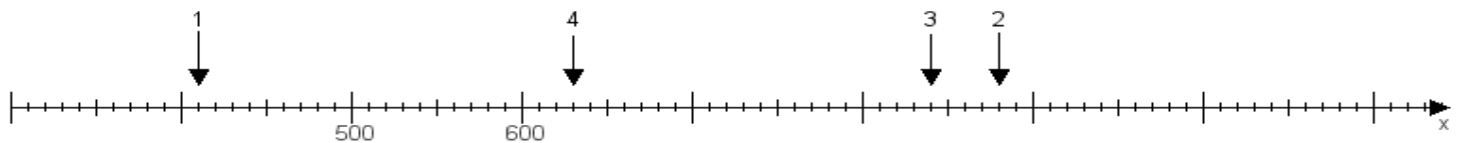
Aufgabe 3:

Ermittle die Werte von den Punkten 1 bis 4.



Aufgabe 4:

Ermittle die Werte von den Punkten 1 bis 4.



www.das-bastelteam.de -> Zahlenstrahl mit 4 Punkten. Blatt Nr.:350
Lösungen:

Aufgabe 1: Punkt 1 = 940, Punkt 2 = 830, Punkt 3 = 680, Punkt 4 = 990,

Aufgabe 2: Punkt 1 = 640, Punkt 2 = 860, Punkt 3 = 500, Punkt 4 = 630,

Aufgabe 3: Punkt 1 = 810, Punkt 2 = 930, Punkt 3 = 920, Punkt 4 = 510,

Aufgabe 4: Punkt 1 = 410, Punkt 2 = 880, Punkt 3 = 840, Punkt 4 = 630,